

Министерство образования и науки Российской Федерации
Федеральное агентство по образованию
Южно-Российский государственный технический университет
(Новочеркасский политехнический институт)

А.А. Водолазский, В.П. Худякова
А.Г. Самойленко, С.А. Тихоновскова

МАКРОЭКОНОМИКА

Практикум

Новочеркасск
ЮРГТУ (НПИ)
2010 г.

УДК
ББК

Рецензент - кандидат экономических наук, доцент кафедры

**Водолазский А.А., Худякова В.П.,
Самойленко А.Г., Тихоновскова С.А.**

Макроэкономика. Практикум: Учебное пособие /Юж.-Рос. гос. техн. ун-т. - Новочеркасск: ЮРГТУ (НПИ), 2010. - 167 с.

Данное учебное пособие является дополнением к курсу лекций «Экономическая теория» (авторы А.Г.Кобилев, А.А.Водолазский, В.П.Худякова, С.А.Тихоновскова), представляя таким образом учебно-методический комплекс для освоения раздела "Макроэкономика" в общей экономической теории студентами, изучающими курсы "Экономика" и "Экономическая теория" в технических университетах в объёмах 70-120 аудиторных часов.

Подобранные для практикума комплекты тестов и задач помогут студентам закрепить изучаемый теоретический материал путём более глубокого освоения методов экономического анализа и развития навыков экономических расчётов.

УДК
ББК

© Южно-Российский государственный технический университет, 2010
© Водолазский А.А., Худякова В.П.,
Самойленко А.Г., Тихоновскова С.А.,
2010

ПРЕДИСЛОВИЕ

Изучение экономической теории можно считать успешным лишь тогда, когда теоретические знания дополняются умениями экономического анализа и владением экономическими расчётами. Однако подавляющее большинство студентов, изучающих "Экономическую теорию" ("Экономику"), утверждает, что они знают основные теоретические положения экономики, но не умеют анализировать взаимосвязи экономических явлений (процессов), затрудняются в проведении экономических расчётов и никогда этому не научатся. Такие утверждения студентов являются их самозаблуждением (самообманом), порождаемым несовершенством организации процесса изучения экономики, которое кроется в переизбытке теоретических источников (учебников, курсов лекций) и недостатке сопряженных с ними практических пособий, позволяющих закреплять теоретические знания практическими навыками.

Настоящий "Практикум-макрэкономика", являясь логическим продолжением курса лекций "Экономическая теория" (авт. А.Г.Кобилев, А.А.Водолазский, В.П.Худякова, С.А. Тихоновскова) и дополнением к "Практикуму-микрэкономика", имеет главную цель - преодолеть разрыв между теоретическим изложением материала и его практическим освоением. "Практикум" предназначен для использования его преподавателями (при проведении практических (семинарских) занятий) и студентами (для изучения

и самоконтроля степени усвоения теоретических положений экономической теории).

Для удобства пользования "Практикумом", он структурно выстроен по одной схеме для всех изучаемых тем, каждая из которых включает следующие рубрики:

I. Учебные цели темы.

II. Основные термины, содержание которых необходимо знать для реализации учебных целей.

III. Тесты для самоконтроля умений анализа усвоенных знаний.

IV. Решение задач для развития навыков владения экономическими расчётами.

V. Ответы к тестовым вопросам.

При подготовке "Практикума" были использованы "Сборники задач" и "Практические пособия", находящиеся в учебном обороте, а также практические задания, содержащиеся в некоторых учебниках и учебных пособиях по "Экономике" и "Экономической теории". Следующий далее список таких источников рекомендуется для более широкого и глубокого изучения экономических проблем:

1. Вечканов Г.С., Вечканова Г.Р. Макроэкономика. - СПб.: Питер, 2006.

2. Шимко П.Д. Экономика. Практикум. Учеб. пособие. - М.: Высш. шк., 2006.

3. Корниенко О.В. Экономическая теория: практикум. - Ростов н/Д: Феникс, 2008.

4. Микро-, макроэкономика. Практикум. /Под общ. ред. Ю.А.Огибина. - СПб.: "Литера плюс", 1994.
5. Сборник задач по экономической теории: микроэкономика и макро- экономика. - Киров, 1997.
6. Сборник задач по экономике: Уч. пособие /Отв. ред. Ю.Е. Власьевич. - М.: 1996.
7. Макконнелл К.Р., Брю С.Л. Экономикс: принципы, проблемы и политика. - М.: Изд-во "ИНФРА", 2007.
8. Гукасьян Г.М. Экономическая теория. - СПб.: Питер, 2006.
9. Артамонов В.С., Иванов С.А., Попов А.И., Уткин Н.И., Миэринь Л.А. Макроэкономика. СПб.: Питер, 2009.
10. Курс экономической теории /Под ред. проф. Чепурина М.Н., проф. Киселёвой Е.А. - Киров: "АСА", 2008.
11. Сакс Дж.Д., Ларрен Ф.Б. Макроэкономика. Глобальный подход. - М.: Дело, 1996.
12. Экономическая теория: Вопросы и ответы, задачи и решения: Учеб. пособие /Под ред. д-ра экон. наук, проф. В.Я.Иохина. - М.: Экономистъ, 2004.
13. Тесты демонстрационных вариантов интернет-тестирования по экономической теории.

Раздел 3. Макроэкономика

Тема 9. МАКРОЭКОНОМИКА И ОСНОВНЫЕ МАКРОЭКОНОМИЧЕСКИЕ ПРОБЛЕМЫ (ОЦЕНКА СОСТОЯНИЯ И ДИНАМИКИ НАЦИОНАЛЬНОЙ ЭКОНОМИКИ)

Учебные цели темы

- 1.** Выяснить структуру и роль системы национальных счетов в макроэкономическом анализе.
- 2.** Усвоить содержание экономических показателей, оценивающих состояние и динамику развития национальной экономики, и методы их количественного определения.
- 3.** Приобрести навыки пользования "инструментами" макроэкономического анализа.

Основные термины, содержание которых необходимо знать, для реализации учебных целей

9.1. Макроэкономическое равновесие и способы его достижения

- 1.** Понятие макроэкономики
- 2.** Цели макроэкономической политики
- 3.** Частичное равновесие экономики
- 4.** Общее равновесие экономики

5. Способы достижения рыночного равновесия в национальной экономике

9.2. Основные показатели, оценивающие итоги развития национальной экономики

- | | |
|---------------------------------------------------|--------------------------------------|
| 1. Методы оценки экономического развития общества | 14. Равновесный ВВП |
| 2. Система национальных счетов | 15. Номинальный ВВП |
| 3. Хозяйствующие субъекты в СНС | 16. Реальный ВВП |
| 4. Номенклатура операций в СНС | 17. Индекс-дефлятор ВВП |
| 5. Структура показателей в СНС | 18. Инвестиции (чистые и валовые) |
| 6. Валовой выпуск (оборот) | 19. Чистый национальный продукт |
| 7. Валовой национальный продукт | 20. Косвенные налоги |
| 8. Валовой внутренний продукт | 21. Национальный доход |
| 9. Конечный продукт | 22. Взносы на социальное страхование |
| 10. Промежуточный продукт | 23. Трансфертные платежи |
| 11. Добавленная стоимость | 24. Нераспределённые доходы фирм |
| 12. Методы измерения ВВП | 25. Личный доход |
| 13. Потенциальный ВВП | 26. Добровольные платежи и налоги |
| | 27. Располагаемый доход |

9.3. Основные "инструменты" макроэкономического анализа на рынках товаров и услуг

- 1. Совокупный спрос**
- 2. Совокупное предложение**
- 3. Модель совокупного спроса и предложения**
- 4. Эффект храповика**
- 5. Модель "расходы-доходы" или кейнсианский крест**
- 6. Модель "доход-потребление-сбережение"**
- 7. Средняя склонность к потреблению и сбережению**
- 8. Предельная склонность к потреблению и сбережению**
- 9. Факторы потребления и сбережения, не связанные с доходом**
- 10. Модель "сбережения-инвестиции"**
- 11. Субъекты сбережений и факторы изменчивости сбережений**
- 12. Субъекты инвестиций и факторы изменчивости инвестиций**
- 13. Факторы спроса на инвестиции**
- 14. Мультипликатор инвестиций**
- 15. Гистерезис**
- 16. Утечки или изъятия из экономики**
- 17. Инъекции или вливания в экономику**
- 18. Парадокс бережливости**

Тесты для самоконтроля умений анализа усвоенных знаний

1. Какие из перечисленных ниже доходов следует включить в ВВП?- (3 варианта правильные)

а) доход (зарплата) учителя

- б) доход от продажи старого мопеда
- в) доход владельца автозаправочной станции
- г) денежный перевод от родителей студенту университета
- д) денежное вознаграждение студентам техникума за уборку улицы

2. Что из перечисленного ниже следует включить в ВВП? – (3 варианта правильные)

- а) услуги репетитора на дому
- б) покупку государственных облигаций
- в) покупку новых учебников в книжных магазинах
- г) покупку подержанных автомобилей
- д) покупку овощей на уличном рынке

3. Объём совокупного предложения изменяется под влиянием: - (3 варианта правильные)

- | | |
|------------------------------------|--------------------------------------------------------|
| а) роста налогов на производителей | г) роста уровня цен на потребительские товары и услуги |
| б) снижения издержек производства | д) снижения налогов на потребителей |
| в) роста производительности труда | |

4. Какие из перечисленных ниже доходов НЕ включаются в ВВП? – (3 варианта правильные)

- а) доход (оплата труда) медицинской сестры

- б) доход от продажи старого компьютера
- в) доход от продажи загородного дома, построенного в прошлом веке
- г) денежный перевод от родственников
- д) вознаграждение за ремонт автомобиля на станции техобслуживания

5. Что из перечисленных ниже элементов включают при определении ВВП по расходам? – (4 варианта правильные)

- а) процент за кредит
- б) валовые частные инвестиции
- в) чистый экспорт товаров и услуг
- г) потребительские расходы
- д) трансфертные выплаты государства пенсионерам и инвалидам
- е) государственные закупки товаров и услуг

6. Какие из перечисленных макроэкономических величин относятся к "утечкам" из экономики? – (3 варианта правильные)

- а) сбережения населения
- б) экспорт товаров и услуг
- в) импорт товаров и услуг
- г) налоговые платежи
- д) государственные закупки товаров и услуг

7. Какие из перечисленных макроэкономических величин относятся к "инъекциям" в экономику? – (3 варианта правильные)

- а) сбережения населения д) инвестиции в национальную эконо-
- б) экспорт товаров и услуг номику
- в) импорт товаров и услуг е) государственные закупки товаров
- г) налоговые платежи и услуг

8. Объём совокупного спроса изменяется под влиянием: - (3 варианта правильные)

- а) ожиданий потребителей роста цен, доходов и т.п.
- б) роста производительности труда
- в) изменения налогов с населения
- г) роста задолженности потребителей
- д) снижения издержек производства

9. К неценовым факторам изменения совокупного спроса относят: - (3 варианта правильные)

- а) изменения в потребительских расходах
- б) изменения процентных ставок по кредитам и депозитам
- в) изменения в инвестиционных расходах
- г) изменения в государственных расходах
- д) изменение налогов на производителей

10. Предприниматель нанял работницу, которая за 300 руб. сшила рубашку стоимостью 700 Руб. из ткани стоимостью 200 руб. Чему равна добавленная стоимость?

- а) 700 руб. в) 400 руб. д) 100 руб.
- б) 500 руб. г) 200 руб.

11. Согласно методу расчета ВВП "по расходам" величина ВВП представляется в виде суммы четырёх слагаемых, в число которых не входят:

- а) государственные расходы
- б) разность экспорта и импорта
- в) инвестиционные расходы фирм
- г) сумма экспорта и импорта
- д) потребительские расходы домашних хозяйств

12. Национальный доход равен:

- а) чистому доходу домохозяйств
- б) чистому внутреннему продукту минус налоги
- в) валовому внутреннему продукту минус налоги
- г) валовому внутреннему продукту минус косвенные налоги

13. Реальный ВВП по сравнению с номинальным ВВП:

- а) всегда меньше
- б) всегда больше
- в) равны, если в текущем году нет инфляции
- г) они вообще не сопоставимы и не сравнимы

14. Совокупный спрос является функцией:

- а) дефлятора ВВП
- б) индекса потребительских цен
- в) цен промышленных товаров
- г) реального ВВП

15. Если равновесие достигается на кейнсианском отрезке кривой совокупного предложения, то увеличение совокупного спроса (сдвиг кривой) приведёт:

- а) к увеличению занятости и росту цен
- б) к увеличению занятости при постоянном уровне цен
- в) к росту цен при постоянном объеме занятости
- г) к росту цен и увеличению объема производства

16. Эффект храповика заключается в том, что:

- а) при уменьшении совокупного спроса объем производства не снижается
- б) при увеличении совокупного предложения уровень цен не растет
- в) при уменьшении совокупного спроса уровень цен не меняется
- г) при увеличении совокупного предложения уровень цен не меняется

17. Мультипликатор инвестиций показывает:

- а) во сколько раз увеличился доход при увеличении инвестиций на 100%
- б) на сколько процентов вырос доход при росте инвестиций на 1%
- в) отношение прироста дохода к приросту инвестиций
- г) отношение прироста инвестиций к приросту дохода

18. Для расчета вклада фирмы в созданный ВВП при исчислении по сумме добавленной стоимости необходимо из рыночной стоимости созданной продукции вычесть:

- а) все косвенные налоги, которые фирма выплачивает государству

- б) нераспределенную прибыль, остающуюся в распоряжении фирмы
- в) амортизацию основного капитала
- г) объём продаж всем другим фирмам

19. Величина мультипликатора инвестиций находится:

- а) в прямой зависимости от предельной склонности к потреблению
- б) в обратной зависимости от предельной склонности к потреблению
- в) в обратной зависимости от предельной склонности к сбережению
- г) в прямой зависимости от предельной склонности к сбережению

20. При расчёте объёма ВВП по доходам не учитывают:

- а) ренту
- б) предпринимательский доход
- в) процент
- г) пенсии

21. В текущем году номинальный ВВП страны увеличился на 500 млрд. руб. по сравнению с прошлым годом и составил 3000 млрд. руб. Индекс-дефлятор ВВП составил 1,25. Какие изменения произошли в стране?

- а) реальный ВВП снизился на 4%
- б) номинальный ВВП увеличился на 25%
- в) реальный ВВП увеличился на 20%
- г) реальный ВВП не изменился

22. Какой из перечисленных ниже методов исследования является основным специфическим методом в макроэкономике?

- а) системно-функциональный
- б) метод агрегирования
- в) экономико-математического моделирования
- г) сочетание исторического и логического

23. Французская фирма работает в России и предоставляет услуги всем участникам российского рынка. Стоимость созданных ею услуг войдёт:

- а) в ВВП Франции и ВВП России
- б) только в ВВП Франции
- в) только в ВВП России
- г) в ВВП Франции и ВВП России

24. Мультипликатор инвестиций выражает рост:

- а) ВВП вследствие роста потребления
- б) НД вследствие роста инвестиций
- в) инвестиций вследствие роста ВВП
- г) сбережений вследствие снижения потребления

25. Отрицательный наклон кривой совокупного спроса не объясняется эффектом:

- а) процентной ставки
- б) богатства
- в) роста издержек
- г) импортных закупок

26. Пересечение кривой совокупного спроса с кривой совокупного предложения на классическом отрезке характеризует равновесие при:

- а) неполной занятости без инфляции
- б) небольшом росте цен и состоянии, близком к полной занятости
- в) полной занятости, но с инфляцией
- г) неполной занятости с инфляцией

27. Средняя склонность к потреблению - это отношение:

- а) расходов на потребление к величине дохода
- б) сбережений к доходу
- в) дохода к потреблению
- г) дополнительного потребления к дополнительному доходу

28. Средняя склонность к потреблению - это:

- а) отношение прироста потребления к приросту дохода
- б) отношение потребления к сбережению
- в) изменение потребительских расходов, вызванных изменением доходов
- г) отношение совокупного потребления к совокупному доходу

29. Эффективный спрос - это:

- а) платежеспособный спрос
- б) максимальный совокупный спрос
- в) совокупный спрос, соответствующий совокупному предложению

г) совокупный спрос, превышающий совокупное предложение

30. "Парадокс бережливости" означает, что увеличение сбережений приводит к:

- | | |
|----------------------|-----------------------|
| а) уменьшению дохода | в) росту производства |
| б) увеличению дохода | г) росту инвестиций |

31. "Инфляционный разрыв" наступает, когда:

- а) инвестиции равны сбережениям
- б) совокупное предложение равно совокупному спросу
- в) совокупный спрос превышает совокупное предложение
- г) совокупное предложение превышает совокупный спрос

32. Если объем совокупного спроса превышает уровень ВВП, соответствующий полной занятости ресурсов, то в экономике наблюдается:

- | | |
|------------------------|-------------------------|
| а) дефляционный разрыв | в) избыток товаров |
| б) инфляционный разрыв | г) избыток рабочей силы |

33. Уровень ВВП, соответствующий полной занятости ресурсов, называется:

- | | |
|------------------|----------------|
| а) потенциальным | в) реальным |
| б) номинальным | г) фактическим |

34. Расчет реального ВВП выглядит как:

- | | |
|------------------------------------|---------------------------------|
| а) номинальный ВВП + изменение ЧВП | в) номинальный ВВП / индекс цен |
|------------------------------------|---------------------------------|

- б) ЧВП + изменение НДС
- г) номинальный ВВП + инвестиции

35. Добавленную стоимость, созданную на предприятии, можно рассчитать путем вычитания из выручки от продажи продукции:

- а) предельных затрат
- в) переменных затрат
- б) материальных затрат
- г) постоянных затрат

36. При расчет ВВП методом суммирования расходов в его объём включают:

- а) государственные закупки товаров и услуг
- б) рентные платежи за земельные участки
- в) трансфертные платежи государства и частных лиц
- г) дивиденды по акциям и проценты по облигациям

37. Макроэкономика может быть определена как область экономической науки, которая изучает:

- а) экономические отношения между российскими и зарубежными фирмами
- б) экономику отдельных отраслей народного хозяйства
- в) экономику страны как единое целое, используя для этого агрегированные параметры
- г) экономическое поведение отдельных групп потребителей, фирм и собственников ресурсов

38. Созданный в стране за год национальный продукт приобретают:

- а) инвесторы, биржевики, производители
- б) фермеры, наемные работники, домохозяйства
- в) домохозяйства, фирмы, государство
- г) корпорации, частные фирмы, домохозяйства

39. Из перечисленного:

- 1) продажа новых автомобилей
- 2) покупка акций ВАЗ
- 3) выплата пенсий
- 4) получение пособий по безработице
- 5) комиссионная продажа автомобилей
- 6) денежные переводы родителей студентам
- 7) домашняя работа хозяйки
- 8) работа на предприятии

в расчет ВВП входит:

- а) 1,2,5,8
- б) только 7 и 8
- в) только 1 и 8
- г) 3,4,6,7

40. Чистый национальный продукт отличается от валового национального продукта на величину:

- а) процента на денежный капитал
- б) рентных платежей
- в) косвенных налогов на бизнес
- г) амортизационных отчислений

- а) всех проданных на рынке товаров и услуг
- б) всех товаров и услуг конечного назначения
- в) всех произведённых товаров и услуг
- г) всех товаров и услуг для личного потребления

45. Номинальный ВВП измеряется:

- а) в мировых ценах
- б) в ценах предшествующего периода
- в) в рыночных текущих ценах
- г) в базовых (неизменных) ценах

46. Дефлятор ВВП равен отношению:

- а) реального ВВП к номинальному ВВП
- б) номинального ВВП к реальному ВВП
- в) номинального ВВП к реальному ВВП
- г) реального ВВП к реальному ВВП

47. Промежуточный отрезок на кривой совокупного предложения:

- а) имеет положительный наклон
- б) имеет отрицательный наклон
- в) представлен вертикальной линией
- г) представлен горизонтальной линией

48. Кейнсианский отрезок кривой совокупного предложения:

- а) имеет отрицательный наклон
- б) представлен вертикальной линией
- в) имеет положительный наклон
- г) представлен горизонтальной линией

линией

линией

49. Если состояние экономики характеризуется кейнсианским отрезком кривой совокупного предложения, то рост совокупного спроса приведет к:

- а) снижению уровня цен и росту реального ВВП
- б) повышению уровня цен и сокращению реального ВВП
- в) увеличению реального ВВП при неизменном уровне цен
- г) повышению уровня цен и реального ВВП

50. Допустим, что ВВП страны увеличился с 500 до 600 млрд. руб., а дефлятор ВВП - со 125 до 150%. При таких условиях величина реального ВВП:

- а) не изменится в) уменьшится
- б) увеличится г) не может быть рассчитана по имеющимся данным

51. Если уровень цен растет, а объем производства падает, то это отражается:

- а) смещением кривой совокупного спроса вправо
- б) смещением кривой совокупного спроса влево
- в) смещением кривой совокупного предложения влево
- г) смещением кривой совокупного предложения вправо

52. Связь между предельной склонностью к потреблению и к сбережению выражается в том, что:

- а) их сумма равна 1

- б) их сумма равна 0
- в) отношение между ними характеризует среднюю склонность к потреблению
- г) их сумма равна располагаемому доходу, так как он делится на потребление и сбережение

53. По теории Д. Кейнса мультипликатор инвестиций - это:

- а) отношение инфляции и безработицы
- б) отношение между инфляцией и банковским процентом
- в) отношение между денежной массой и массой инвестиционных товаров
- г) отношение прироста реального ВВП к приросту инвестиций

54. Если чистый экспорт сократится на 10 млрд. руб., а потребительские расходы домохозяйств увеличатся на 20 млрд. руб., то ВВП:

- а) вырастет на 30 млрд. руб.
- б) снизится на 30 млрд. руб.
- в) снизится на 10 млрд. руб.
- г) вырастет на 10 млрд. руб.

55. Чистый национальный продукт отличается от валового национального продукта:

- а) больше на величину амортизации
- б) меньше на величину амортизации
- в) больше на величину косвенных налогов на бизнес
- г) меньше на величину косвенных налогов на бизнес

Определите объём валового внутреннего продукта (в млрд. руб.):

- | | | |
|--------|--------|--------|
| а) 100 | в) 500 | д) 400 |
| б) 250 | г) 350 | е) 850 |

61. Когда положение экономики соответствует классическому отрезку кривой совокупного предложения, то рост совокупного спроса ведет:

- а) к увеличению реального ВВП, но не влияет на уровень цен
- б) к повышению цен, но не оказывает влияния на рост реального ВВП
- в) к повышению и уровня цен, и объема ВВП в реальном выражении
- г) к снижению цен и росту ВВП в реальном выражении

62. Национальный доход - это:

- а) зарплата, рента, процент, прибыль и доходы от собственности
- б) прирост стоимости ВВП в текущем году по сравнению с прошлым
- в) личный доход граждан за минусом индивидуальных налогов
- г) стоимость предметов длительного пользования и услуг

63. Личный доход - это:

- а) заработная плата работника
- б) доход, предназначенный для личных расходов, после уплаты налогов

- в) доход, полученный от продажи потребительских товаров за год
- г) доход, полученный домохозяйствами в течении года

64. Располагаемый доход - это:

- а) сумма, включающая зарплату, жалование, ренту, процент и прибыль
- б) все денежные и натуральные доходы человека
- в) личный доход за минусом индивидуальных налогов и добровольных не налоговых платежей
- г) доход, который находится в распоряжении государства и используется на социальные программы

65. Сдвиг кривой совокупного спроса вправо НЕ может отражать:

- а) повышение уровня цен и реального объема ВВП одновременно
- б) повышение уровня цен при отсутствии роста реального объёма ВВП
- в) рост реального объёма ВВП при неизменных ценах
- г) рост уровня цен и падение реального объёма ВВП одновременно

66. Увеличение совокупного спроса приведет к росту равновесного ВВП и уровня цен, если сдвиг кривой совокупного спроса происходит на:

- а) кейнсианском отрезке кривой совокупного предложения
- б) промежуточном отрезке кривой совокупного предложения

- в) классическом отрезке кривой совокупного предложения
- г) верны ответы "б" и "в"

67. Предельная склонность к потреблению - это отношение:

- а) совокупного потребления к совокупному доходу
- б) совокупного потребления к сбережениям
- в) прироста потребления к приросту дохода
- г) приросту потребления к приросту сбережений

68. Если люди не тратят весь свой доход на потребление и помещают неизрасходованную сумму в банк, то можно сказать, что они:

- а) сберегают и инвестируют
- б) сберегают, но не инвестируют
- в) инвестируют, но не сберегают
- г) все ответы верны

69. Если объём номинального ВВП и уровень цен повысились, то:

- а) реальный ВВП не изменился
- б) реальный ВВП сократился
- в) реальный ВВП увеличился, но в меньшей степени, чем цены
- г) эта информация не позволяет определить динамику реального ВВП

70. На объём инвестиций оказывает влияние:

- а) уровень процентной ставки

- б) технологические изменения в производстве
- в) оптимистические или пессимистические ожидания предпринимателей
- г) уровень ожидаемой нормы прибыли на инвестиции
- д) все предыдущие ответы верны

71. Если реальная процентная ставка снизится, то спрос на инвестиции:

- а) возрастет в) не изменится
- б) сократится г) направление изменений установить невозможно

72. Парадокс бережливости действует в экономике:

- а) полной занятости ресурсов в) командного и переходного типов
- б) не полной занятости ресурсов г) с развитыми рыночными отношениями

73. Если объём располагаемого дохода уменьшается, то, при прочих равных условиях:

- а) потребительские расходы растут, а сбережения сокращаются
- б) потребительские расходы сокращаются, а сбережения растут
- в) сокращаются и потребительские расходы, и сбережения
- г) все предыдущие ответы верны

74. Если объём равновесного ВВП оказывается больше его потенциального уровня, то:

- а) повысится уровень цен

- б) повысится уровень безработицы
- в) автоматически увеличится совокупное предложение
- г) автоматически увеличится совокупный спрос

75. Украинские рабочие, временно работающие в России и получающие здесь заработную плату, увеличивают:

- а) валовой национальный доход России и Украины
- б) валовой национальный доход России и валовой внутренний продукт Украины
- в) валовой внутренний продукт России и Украины
- г) валовой внутренний продукт России и валовой национальный доход Украины

76. В 2004 году в Республике Вилабаджи располагаемый доход домохозяйств составлял 100 тыс. экю. На покупку товаров и услуг они потратили 90 тыс. экю. Если в 2005 году эти показатели составили соответственно 120 тыс. экю. и 106 тыс. экю, то предельная склонность к потреблению равна:

- а) 0,8
- б) 0,85
- в) 0,83
- г) 0,94

77. Определите, на какую величину нужно увеличить валовые инвестиции (в млн. руб.), чтобы равновесный ВВП увеличился на 20 млн. руб., если предельная склонность к потреблению равна 0,8:

- а) 10
- б) 5
- в) 4
- г) 2,5

78. Для расчёта чистого внутреннего продукта необходимо из показателя ВВП:

- а) вычесть чистые инвестиции в) вычесть косвенные налоги на бизнес
б) вычесть величину амортизации г) вычесть валовые инвестиции

79. Если номинальный ВВП увеличится по сравнению с предшествующим годом с 400 до 500 млрд. песо, а дефлятор ВВП равен 1,2, то реальный ВВП:

- а) увеличится на 25% в) снизится на 1,2%
б) снизится на 7,3% г) увеличится на 4,2%

80. Если отклонение реального ВВП от потенциального составляет 4%, а потенциальный объём выпуска составляет 5800 млрд. ден. ед., тогда страна недопроизводит (млрд. ден. ед.):

- а) 580 б) 290 в) 232 г) 116

81. При увеличении совокупного спроса (AD) на промежуточном (восходящем) отрезке кривой совокупного предложения (AS) при прочих равных условиях:

- а) равновесный объём производства сократится, а равновесный уровень цен вырастет
б) равновесный объём производства вырастет, а равновесный уровень цен останется неизменным

в) равновесный объем производства не изменится, а равновесный уровень цен сократится

г) равновесный объем производства и равновесный уровень цен вырастут одновременно

82. Если уравнение потребления имеет вид $C=100+0,75V$, где (V - совокупный объем производства и доходов), то при уменьшении автономных потребительских расходов на 20 млн. руб. равновесный ВВП уменьшится на (млн. руб.):

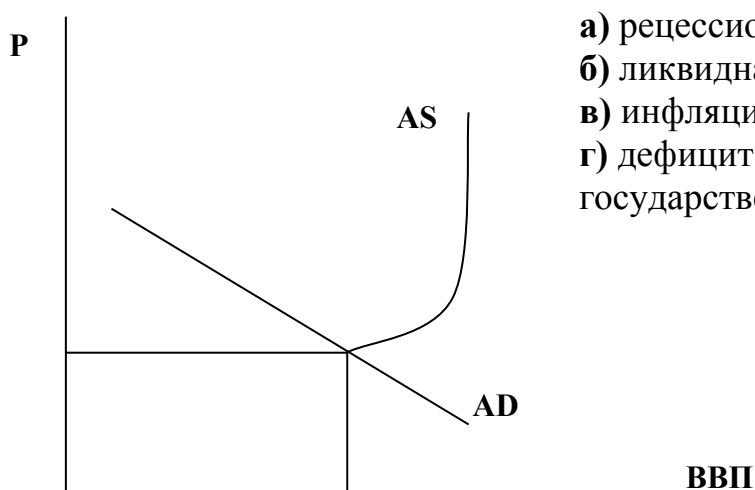
а) 100

б) 80

в) 40

г) 20

83. На рисунке показана модель AD-AS (совокупного спроса, совокупного предложения). Если совокупные расходы в обществе меньше потенциального объема ВВП, то в экономике существует:



- а) рецессионный разрыв;
- б) ликвидная ловушка;
- в) инфляционный разрыв;
- г) дефицит государственного бюджета

84. В состав ВНД включается:

а) услуги домашней хозяйки

- б) покупка буханки хлеба в булочной
- в) покупка акций "Газпрома"
- г) покупка картины художника XVIII века.

85. Если в республике Кокосия в 2004 году потребительские расходы домохозяйств составляли 260 млн. песо при располагаемом доходе 300 млн. песо, а в 2005 году соответственно 290 млн. песо и 350 млн. песо, то предельная склонность к потреблению равна:

- а) 0,86 б) 0,75 в) 0,6 г) 0,9

86. Под дефляцией понимается:

- а) устойчивая тенденция к повышению общего уровня цен
- б) устойчивая тенденция к снижению ВВП
- в) устойчивая тенденция к снижению общего уровня цен
- г) устойчивая тенденция к росту безработицы

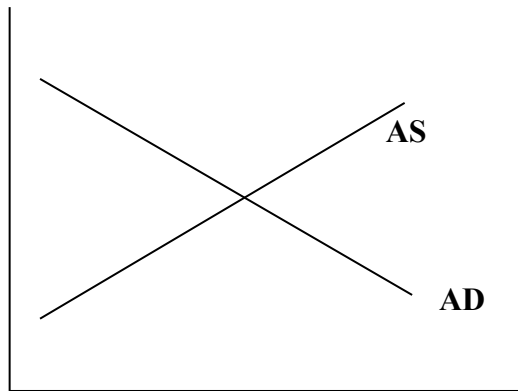
87. К агрегатам в системе национальных счетов не относится:

- а) прибыль предприятий
- б) национальное богатство
- в) национальное сбережение
- г) валовой внутренний продукт

88. Воздействие отрицательного шока совокупного предложения отражается:

- а) изменением наклона кривой совокупного предложения
- б) сдвигом кривой совокупного предложения вправо (вниз)
- в) движением влево (вниз) вдоль кривой совокупного предложения
- г) сдвигом кривой совокупного предложения влево (вверх)

89. В 2003 году номинальный ВВП Республики Альфиния был 400 млрд. луидоров, а в 2004 году - 450 млрд. луидоров. Если дефлятор ВВП равен 1,25, то:



- а) предложения вправо
- б) спроса влево
- в) спроса вправо
- г) предложения влево

94. Валовые инвестиции, являющиеся компонентом ВВП, равны:

- а) сумме чистых частных инвестиций и амортизации
- б) разнице между государственными и частными инвестициями
- в) разнице между чистыми частными инвестициями и амортизацией
- г) сумме государственных и частных инвестиций

95. Отклонение реального ВВП от потенциального составляет 2%, а фактический объём выпуска составил 196 млрд. ден. ед. Тогда потенциально возможный ВВП составит (млрд. ден. ед):

- а) 200
- б) 198
- в) 194
- г) 192

96. Составляющими совокупного спроса являются:

- а) потребление и сбережение
- б) инвестиции и экспорт
- в) инвестиции и импорт
- г) потребление и инвестиции

97. Если состояние экономики характеризуется кейнсианским отрезком кривой AS, то рост совокупного спроса приведёт:

- а) снижению уровня цен и росту реального ВВП
- б) повышению уровня цен и к сокращению реального ВВП
- в) увеличению реального ВВП при неизменном уровне цен
- г) повышению уровня цен и реального ВВП

98. При росте доходов домохозяйств с 30 тыс.руб. до 50 тыс.руб. и увеличении потребления на 15 тыс.руб. мультипликатор автономных расходов будет равен:

- а) 4 б) 10 в) 3 г) 5

**Решение задач для развития навыков владения
экономическими расчётами**

Задача №1. Предположим, что металлургический завод закупил для выплавки стали сырья на сумму 260 тыс. руб. и реализовал выплавленную сталь автомобильному заводу за 290 тыс. руб. Электромеханический завод для производства электросистемы автомобиля закупил различных деталей на 100 тыс. руб. и продал изготовленные электросистемы автомобильному заводу за 120 тыс. руб. Автомобильный завод продал готовые легковые машины торговой фирме, которая, добавив к заводской стоимости 20 тыс. руб., продала их населению по 500 тыс. руб. Определите вклад автомобильного завода в объём ВВП страны (в тыс. руб.).

Ответ: 70 тыс. руб.

Задача №2. Допустим, что в национальной экономике создаётся три товара: X (потребительский товар), Y (предмет труда) и Z (средство труда). В текущем году было произведено 500 шт. товара X (цена за штуку - 20руб.), 1000 шт. товара Y (цена за штуку - 10 руб.) и 200 шт. товара Z (цена за штуку - 100 руб.). К концу текущего года 20 машин (товаров Z) износились и должны быть заменены новыми.

Определите в рублях величину: 1) ВВП; 2) ЧНП; 3) потребления; 4) валовых инвестиций; 5) чистых инвестиций.

Ответы: 1) 30000; 2) 28000; 3) 10000; 4) 20000; 5) 18000.

Задача №3. Известно, что ВВП страны = 5000 млрд. руб. Потребительские расходы = 3200 млрд. руб.; государственные расходы = 900 млрд. руб.; чистый экспорт = 80 млрд. руб.; экспорт = 350 млрд. руб.; амортизация основного капитала = 150 млрд. руб. Определите величину в млрд. руб.: 1) ЧНП; 2) инвестиций; 3) импорта.

Ответы: 1) 4850; 2) 820; 3) 270.

Задача №4. По данным, приведенным ниже (цифры условные в ден. ед.), рассчитайте: 1) ВВП по расходам и доходам; 2) чистый национальный продукт (ЧНП); 3) национальный доход (НД) - двумя способами; 4) личный доход (ЛД); 5) располагаемый доход (РД) - двумя способами.

Исходные данные для расчётов:

1. Личные потребительские расходы.....	245
2. Трансфертные платежи.....	12
3. Арендная плата.....	14
4. Отчисления на потребление капитала (амортизация).....	27
5. Взносы на социальное страхование.....	20
6. Проценты.....	13
7. Доход от собственности.....	31
8. Чистый экспорт.....	3
9. Дивиденды.....	16
10. Заработная плата наёмных работников.....	221
11. Косвенные налоги на бизнес.....	18
12. Нераспределённые прибыли предприятий.....	21
13. Индивидуальные налоги.....	26
14. Налог с доходов предприятий.....	19
15. Прибыль предприятий.....	56
16. Государственные закупки товаров и услуг.....	72
17. Чистые частные внутренние инвестиции.....	33

18. Личные сбережения.....16

Ответы: ВВП = 380; ЧНП = 353; НД = 335; ЛД = 287; РД = 261.

Задача №5. Об экономике условной страны имеются следующие данные в млрд. руб. за два года:

	1-й год	2-й год
1. Стоимость нового строительства	5	5
2. Стоимость произведенного оборудования	10	10
3. Стоимость произведенных потребительских товаров	110	90
4. Стоимость потребленных товаров	90	110
5. Автоматизация зданий и оборудования	20	20
6. Запасы потребительских товаров на начало года	30	50
7. Запасы потребительских товаров на конец года	50	30

Определите для каждого года два блока показателей:

а) ВВП, объём потребления, валовые инвестиции;

б) ЧНП, объём потребления, чистые инвестиции.

Ответы: а) 125 и 105; 90 и 110; 35 и -5.

б) 105 и 85; 90 и 110; 15 и -25.

Задача №6. В таблице приведены данные, характеризующие величину номинального ВВП в США в годы великой депрессии (млрд. долл.).

Годы	Номинальный ВВП	Индекс уровня цен, %
1929	104	121
1933	56	91
1939	91	100

По данным таблицы определите:

1) какой год из трёх является базовым?

2) как изменился уровень цен с 1929 по 1933 г. и с 1933 по 1939 г.?

3) величину реального ВВП (млрд. долл.) для каждого года.

Ответы: 1) 1939 г.; 2) цены снизились на 24,8% и выросли на 9,9%;

3) 1929 г. - 86; 1933 г. - 61,5; 1939 г. - 91.

Задача №7. Для условной экономической системы известны следующие показатели (в млрд. руб.): объём ВВП - 12; потребительские расходы -7; государственные расходы - 2; объём экспорта - 2; объём импорта - 1. Рассчитайте величину инвестиций в экономику.

Ответ: 2.

Задача №8. В стране "А" первоначальная стоимость основного капитала равна 100 млрд. евро. Валовые инвестиции составили в первом году 8, а во втором году 15 млрд. евро. Если норма амортизации составляет 10% в год, то какими будут чистые инвестиции в каждом году?

Ответы: -2 и +5.

Задача №9. В таблице 1 представлены данные, характеризующие совокупное предложение (млрд. руб.):

Таблица 1

Уровень цен, %	250	225	200	175	150	125	125	125
Объём ВВП	2000	2000	1900	1700	1400	1000	500	0

Постройте график совокупного предложения и установите, в каких пределах изменится объём ВВП и уровень цен на кейнсианском, классическом и промежуточном отрезках кривой совокупного.

В таблице 2 представлены три варианта функции совокупного спроса.

Таблица 2

Уровень цен, %	Объём ВВП, млрд. руб.		
	1	2	3
250	1400	1900	400
225	1500	2000	500
200	1600	2100	600
175	1700	2200	700
150	1800	2300	800

125	1900	2400	900
100	2000	2500	1000

Дополните график совокупного предложения графиком совокупного спроса в трёх вариантах и определите равновесный объём ВВП для каждого из трёх вариантов.

Задача №10. Ежедневные расходы семьи на потребление (C) равны 100 евро + 0,5 объёма располагаемого дохода за неделю (DI), то есть: $C = 100 \text{ евро} + 0,5DI$. В таблице приведены данные о динамике располагаемого дохода за неделю. Дополните данные таблицы расчётом величин: потребления (C), сбережения (S), средней склонности к потреблению (APC), средней склонности к сбережению (APS), предельной склонности к потреблению (MPC) и предельной склонности к сбережению (MPS).

DI	C	S	APC	APS	MPC	MPS
0						
100						
200						
300						
400						
500						

По полученным данным постройте графики потребления и сбережения и объясните, что означает отрицательное сбережение.

Задача №11. Допустим, что 1 руб. дополнительного дохода одного человека, чья предельная склонность к потреблению равна 0,9, передаётся другому индивиду, у которого предельная склонность к потреблению равна 0,7. Как при этом изменится сумма потребительских расходов и сбережений?

Задача №12. Фирма рассматривает три инвестиционных проекта (А,В,С). Ожидаемая норма прибыли по проектам: А - 8%; В - 14%; С -10%. Процентная ставка по кредитам равна 25%, а ожидаемая инфляция составляет 15% за год. Какой проект для фирмы будет прибыльным?

Задача №13. Заполните таблицу, предварительно сделав расчёты на основе следующих данных (млрд. руб.): потребление = $200 + 0,75$ располагаемого дохода; инвестиции = 200; экспорт = 125; импорт = 25; налоги = 200.

Совокуп. предлож.	Налоги	Располагаемый доход	Потребление	Инвестиции	Государст. расходы	Чистый экспорт	Совокуп. спрос
1800							
2000							
2200							
2400							
2600							

В таблице совокупное предложение представляет собой величину национального дохода, который в состоянии равновесия экономики должен быть равен величине совокупного спроса.

По заполненным данным таблицы определите:

- 1) при каком уровне национального дохода экономика достигает макроэкономического равновесия;
- 2) величину мультипликатора инвестиций;
- 3) при каком уровне национального дохода экономики достигнет нового равновесия, если объём инвестиций снизится до 150 млрд. руб.

Ответы: 1) 2200; 2) 4; 3) 2000.

Задача №14. Об экономике страны имеется следующая информация:

- объём ВВП при полной занятости равен 100 млрд. руб.;

- ожидаемые потребительские расходы, соответствующие этому ВВП, должны достигнуть 80 млрд. руб.;

- предельная склонность к потреблению равна 0,8;

- сумма плановых инвестиций, независимо от величины ВВП, составляет 10 млрд. руб.

Определите в млрд. руб.: 1) объём равновесного ВВП при условии, что государство не вмешивается в экономику; 2) объём дополнительных инвестиций, необходимый для того, чтобы равновесный ВВП увеличился до 100 млрд. руб.

Ответы: 1) 50; 2) 10.

Задача №15. Функция потребления имеет вид: $C=350+0,6*V$. Планируемые инвестиции равны 150 ден. ед. Определите:

1) равновесный объём выпуска (V);

2) объём выпуска (V_1) при увеличении автономного потребления до 400 ден. ед. и сокращении инвестиций до 70 ден. ед.

Ответы: $V=1250$ ден. ед.; $V_1=1175$ ден. ед.

Задача № 16. Предположим, что функция сбережений имеет вид: $S=(-100)+0,2*V$. Инвестиции составляют 250 ден. ед. Каким будет в этом случае равновесный уровень национального дохода?

Ответ: 1750 ден. ед.

Ответы к тестовым вопросам темы 9

1-а,в,д; 2-а,в,д; 3-а,б,в; 4-б,в,г; 5-б,в,г,е; 6-а,в,г; 7-б,д,е; 8-а,в,г; 9-а,в,г; 10-б; 11-г; 12-б; 13-в; 14-г; 15-б; 16-в; 17-в; 18-а; 19-в; 20-г; 21-а; 22-б; 23-а; 24-б; 25-в; 26-в; 27-а; 28-г; 29-в; 30-а; 31-в; 32-б; 33-а; 34-в; 35-б; 36-а; 37-в; 38-в; 39-в; 40-г; 41-б; 42-а; 43-а; 44-б; 45-в; 46-в; 47-а; 48-г; 49-в; 50-а; 51-в; 52-а; 53-г; 54-г; 55-б; 56-в; 57-б; 58-в; 59-г; 60-в; 61-б; 62-а; 63-г; 64-в; 65-г;

66-б; 67-в; 68-б; 69-г; 70-д; 71-а; 72-б; 73-в; 74-а; 75-г; 76-а; 77-в; 78-б; 79-г; 80-в; 81-г; 82-б; 83-а; 84-б; 85-в; 86-в; 87-а; 88-г; 89-а; 90-б; 91-б; 92-б; 93-в; 94-г; 95-а; 96-г; 97-в; 98-а.

Тема 10. РОЛЬ ГОСУДАРСТВА В РЕГУЛИРОВАНИИ МАКРОЭКОНОМИЧЕСКОГО РАВНОВЕСИЯ: ТЕОРИИ И МЕТОДЫ ВЛИЯНИЯ

Учебные цели темы

1. Проследить исторический процесс развития взглядов на соотношение рынка и конкуренции в регулировании национальной экономики.
2. Ознакомиться с основными функциями государства в рыночной экономике и методами государственного влияния на её состояние и динамику.

Основные термины, содержание которых необходимо знать, для реализации учебных целей

10.1. Развитие теории о роли государства в регулировании рыночной экономики

1. Классическая теория невмешательства государства в экономику
2. Теория государственного регулирования экономики Дж.М.Кейнса
3. Теория денежного регулирования экономики М.Фридмена
4. Роль государства в теории социального рыночного хозяйства
5. Институционализм и экономико-правовые аспекты деятельности государства в рыночной экономике

10.2. Функции государства и методы регулирования рыночной экономики

1. Основные функции государства в рыночной экономике

2. Методы государственного воздействия на экономику:

а) прямые (административные):

- запрет
- разрешение
- принуждение

б) косвенные (экономические):

- бюджетно-налоговые
- денежно-кредитные

в) институциональные:

- формирование государственных структур управления
- поддержка госсектора экономики
- подготовка экономических программ и прогнозов развития
- информационная поддержка фирм

Тесты для самоконтроля умений анализа усвоенных знаний

1. Основными постулатами "закона рынков" Ж.Б. Сэя являются:

- (3 варианта правильные)

а) спрос создаёт соответствующий ему уровень предложения

б) предложение создаёт соответствующий ему спрос

в) цены, зарплата, процентные ставки совершенно гибки, подвижны

г) допускается вмешательство государства в экономику

д) экономические кризисы невозможны, либо их проявление имеет всегда временный и преходящий характер

2. В соответствии с принципами теории социального рыночного хозяйства государство должно: - (3 варианта правильные)

- а) распределять средства между отдельными сферами их применения
- б) создавать условия для развития свободной конкуренции
- в) разрабатывать и добиваться выполнения специфической социальной политики
- г) распределять предметы потребления на основе принципа социальной справедливости
- д) препятствовать чрезмерной монополизации производства

3. Из положений, приведенных ниже, основу методологии Дж.Кейнса составляют: - (3 варианта правильные)

- а) приоритет микроэкономического анализа
- б) приоритет макроэкономического анализа
- в) приверженность "закону рынков" Ж.Б.Сэя
- г) концепция эффективного спроса
- д) второстепенная роль денег в развитии экономики

4. Основатель школы монетаризма М.Фридмен в своей концепции регулирования экономики основополагающими считает принципы: - (3 варианта правильные)

- а) приоритетности неденежных факторов
- б) приоритетности денежных факторов
- в) стабильности умеренного темпа роста количества денег в течении длительных периодов
- г) бюджетного механизма регулирования экономики
- д) кредитно-денежного механизма регулирования экономики

5. Основными типами организации производства в теории социального рыночного хозяйства признаются: - (2 варианта правильные)

- а) социализм
- в) феодализм
- д) рыночный

- б) капитализм г) централизованный е) натуральный

6. Приоритетными методами исследования в институциональной теории являются: - (3 варианта правильные)

- а) причинно-следственной зависимости г) социальной психологии
б) историко-экономический д) эмпирический
в) научной абстракции

7. Основоположником экономической теории институционализма является:

- а) Р.Коуз б) А.Маршалл в) Т.Веблен г) П.Самуэльсон

8. Участие государства в регулировании экономики обусловлено прежде всего необходимостью:

- а) защиты общественных интересов
б) обеспечения эффективного функционирования рыночного механизма
в) реализации интересов отдельных социальных групп
г) решения конкретных задач экономического и социального развития страны

9. Направление экономической теории, обосновывающее решающую роль денег в управлении экономическими процессами, это:

- а) кейнсианство в) институционализм
б) монетаризм г) неоклассицизм

10. Классическая теория макроэкономического равновесия базировалась на допущении:

- а) гибкости цен, зарплаты и процентных ставок
б) решающей роли спроса в установлении равновесия
в) отсутствия конкуренции на рынках ресурсов

г) негибкости цен, зарплаты и процентных ставок

11. Роль государства в экономике в эпоху капитализма свободной конкуренции определялась взглядами:

- а) классической политэкономии
- б) маржинальной экономической теории
- в) физиократов
- г) институционалистов

12. Кейнсианцы считают, что:

- а) цены являются "гибкими" и могут быть значительно снижены в короткое время
- б) правительство должно использовать государственные закупки и налоги, чтобы способствовать снижению безработицы
- в) экономика должна развиваться на основе централизованно разрабатываемых планов
- г) в рыночной экономике имеются механизмы, способные самостоятельно и в короткие сроки обеспечить полную занятость

13. Классическая концепция полной занятости построена на следующих предпосылках:

- а) на рынках материальных ресурсов существует совершенная конкуренция
- б) цены на товары и заработная плата гибки или подвижны
- в) процентные ставки устанавливаются рынком
- г) все перечисленное верно

14. Для определения вклада государственного сектора в производство ВВП необходимо:

- а) рассчитать объём государственных расходов на покупку товаров и услуг
- б) учесть расходы государства только на потребительские товары
- в) определить сумму затрат государства на товары, которые не относятся к категории услуг

г) учесть государственные расходы, связанные с покупкой только конечного продукта, исключив таким образом затраты государство на промежуточные товары

15. Саморегулирующаяся рыночная система гарантирует:

- а) отсутствие дефицита товаров
- б) невозможность избытка товаров
- в) возможность часто появляющегося устойчивого и длительного дефицита
- г) дефициты и излишки отдельных товаров, которые быстро исчезают в результате действия ценового механизма

16. Если государство ужесточает требования к сохранению окружающей среды, это вызывает:

- а) рост издержек производства на единицу продукции и смещение кривой совокупного предложения вправо
- б) рост издержек производства на единицу продукции и смещение кривой совокупного предложения влево
- в) снижение издержек производства на единицу продукции и смещение кривой совокупного спроса влево
- г) снижение издержек производства на единицу продукции и смещение кривой совокупного спроса вправо

17. Какой цели прежде всего соответствует применение административных мер государственного регулирования экономики?

- а) обеспечение высоких темпов экономического развития
- б) укрепление национальной валюты
- в) корректировка рыночного механизма там и в той мере, где он не даёт должного экономического эффекта

г) сглаживание диспропорций в отраслевой и территориальной структуре экономики страны

18. В стране возник дефицит товаров и растут цены. Какие меры государственной экономической политики будут наиболее эффективны?

- а) заморозить цены и ввести штрафные санкции за их повышение
- б) ввести бюджетное субсидирование некоторых цен с целью их снижения
- в) стимулировать частные капиталовложения в создание новых производственных мощностей
- г) начать выпуск дефицитных товаров на государственных предприятиях

19. В каких отраслях экономики чаще всего представлен государственный сектор?

- а) в розничной торговле в) в сельском хозяйстве
- б) в инфраструктуре г) в производстве предметов первой необходимости

20. Государственное регулирование экономики в рыночном хозяйстве:

- а) порождено исключительно интересами бюрократического государственного чиновничества
- б) служит экономическим целям преимущественно национального финансового капитала
- в) служит главным средством подавления недовольства лиц наёмного труда
- г) служит для решения задач, которые сам по себе рыночный механизм решить не может или решает недостаточно быстро и эффективно

21. Какая из функций государства в рыночной экономике является определяющей?

- а) разработка политики макроэкономической стабильности

- б) регулирование цен и заработной платы
- в) создание правовой базы для развития экономики и общества
- г) разработка программ воздействия на распределение доходов и оказания помощи малоимущим слоям населения

22. В качестве предмета экономического анализа институционализм выдвигает:

- а) сферу производства и обращения
- б) сферу производства
- в) сферу социальных отношений
- г) экономические и неэкономические факторы развития общества

23. Теория монетаризма считает возможным государственным вмешательство в экономику в сфере:

- а) производства
- б) распределения
- в) денежного обращения
- г) внешней торговли

24. В условиях рыночной экономики к основным экономическим функциям государства наряду с другими относится:

- а) производство общественных благ и услуг
- б) распределение доходов между собственниками различных факторов производства
- в) определение цен на товары и услуги
- г) максимизация уровня доходов владельцев капитала

25. К основным целям государственного регулирования экономики в условиях рынка НЕ относится:

- а) обеспечение её постоянного и устойчивого развития
- б) стабилизация уровня цен и поддержание определённого уровня занятости в стране

- в) снижение степени социального неравенства в обществе
- г) управление государственным сектором
- д) снижение уровня конкуренции в стране

26. В условиях рыночной экономики правительство участвует в управлении хозяйством страны, чтобы:

- а) снизить уровень конкурентной борьбы на рынке
- б) обеспечить рынок товарами и услугами более дешевыми, чем у частных производителей;
- в) регулировать провалы рынка и побочные эффекты (последствия) экономического развития
- г) гарантировать получение дохода всем предприятиям страны
- д) распределять ресурсы между производителями

27. Установите, какое из перечисленных ниже положений не соответствует принципам кейнсианской экономической школы:

- а) кризисному состоянию экономики может соответствовать состояние её макроэкономического равновесия
- б) рынок не способен обеспечить автоматическое саморегулирование национального хозяйства
- в) необходимо обязательное государственное вмешательство в функционирование экономики страны
- г) для преодоления кризиса национального хозяйства необходимо обеспечить рост совокупного спроса
- д) основным рычагом государственного регулирования национальной экономики является бюджетно-налоговая политика
- е) все приведенные выше положения соответствуют кейнсианской экономической школе

Ответы к тестовым вопросам темы 10

1-б,в,д; 2-б,в,д; 3-б,г,д; 4-б,в,д; 5-г,д; 6-б,г,д; 7-в; 8-б; 9-б; 10-а; 11-а; 12-б; 13-г; 14-а; 15-г; 16-б; 17-в; 18-в; 19-б; 20-г; 21-в; 22-г; 23-в; 24-а; 25-д; 26-в; 27-е.

Тема 11. ФИНАНСЫ И БЮДЖЕТНО-НАЛОГОВАЯ ПОЛИТИКА ГОСУДАРСТВА

Учебные цели темы

1. Понять содержание финансов и финансовой системы страны. Уяснить особую роль бюджета в распределении финансовых ресурсов.
2. Изучить структуру налоговой системы, виды налогов, элементы их организации и систему налогов в России.
3. Освоить методы и инструменты налогово-бюджетной (фискальной) политики государства.

Основные термины, содержание которых необходимо знать, для реализации учебных целей

11.1. Финансы и финансовая система государства

- | | |
|-------------------------------------|---------------------------------|
| 1. Понятие финансов | 3. Функции финансов |
| 2. Субъекты финансовых отношений РФ | 4. Структура финансовой системы |

11.2. Государственный бюджет - важнейший инструмент регулирования национальной экономики

1. Государственный бюджет - понятие и назначение
2. Структура бюджетной системы РФ
3. Доходы и расходы бюджета

4. Сальдо бюджета и его виды
5. Причины бюджетного дефицита
6. Концепции регулирования бюджета
7. Государственный долг внешний и внутренний
8. Рефинансирование госдолга

11.3. Налоговая система и принципы налогообложения

1. Налоговая система и её структура
2. Понятие налогов
3. Функции налогов
4. Принципы налогообложения
5. Элементы организации налога
6. Виды налогов:
 - а) по способам платежа;
 - б) по способам использования;
 - в) по субъектам распоряжения
7. Ставки налогообложения
8. Система налогов в России

11.4. Налогово-бюджетная (фискальная) политика государства

1. Понятие фискальной политики и методы её осуществления
2. Кривая Лаффера
3. Мультипликатор государственных расходов
4. Налоговый мультипликатор
5. Теоретические подходы к формированию налоговой политики:
 - а) на основе теории спроса
 - б) на основе теории "экономики предложения"
6. Фискальная политика:
 - а) дискреционная стимулирующая
 - б) дискреционная сдерживающая
 - в) недискреционная или автоматическая

Тесты для самоконтроля умений анализа усвоенных знаний

- 1. Какой из перечисленных налогов может быть перенесён на конечного потребителя? – (3 варианта правильные)**

- а) налог на добавленную стоимость
- б) налог на имущество предприятий и организаций
- в) налог на прибыль предприятий
- г) налог на наследство и дарения
- д) подоходный налог с физических лиц

2. Функции системы налогообложения в стране заключаются: - (4 варианта правильные)

- а) в увеличении объёма средств, которыми распоряжается государство
- б) в увеличении объёма средств, направляемых на финансирование государственных расходов
- в) в перераспределении доходов между различными категориями населения страны
- г) в увеличении объёма средств, находящихся в распоряжении фирм и домашних хозяйств

3. Среди перечисленных ниже к прямым налогам НЕ относится: - (3 варианта правильные)

- а) налог на добавленную стоимость
- б) налог на землю
- в) налог с продаж
- г) акцизный налог
- д) налог на доход от собственности

4. Определите, какие из перечисленных ниже налогов НЕ относятся к прямым налогам? – (4 варианта правильные)

- а) таможенные пошлины
- б) акцизные налоги
- в) налоги на добавленную стоимость
- г) налоги на продажи
- д) налог на доход от собственности

5. К косвенным налогам относятся: - (3 варианта правильные)

- а) налог на добавленную стоимость
- г) налог на прибыль

- б) акцизные налоги
- в) таможенные пошлины
- д) налог на недвижимость

6. Определите, какие из перечисленных ниже налогов относятся к прямым налогам? – (3 варианта правильные)

- а) налоги на прибыль предприятий
- б) налоги на наследство и дарения
- в) налоги на личные доходы
- г) таможенные пошлины
- д) налог на добавленную стоимость

7. Выделите четыре основных, т.е. самых главных источника доходов государственного бюджета стран с развитыми рыночными отношениями:

- а) доходы от государственной собственности
- б) налог на наследство и дарения
- в) налог на операции с ценными бумагами
- г) налог на добавленную стоимость
- д) таможенные пошлины
- е) социальные взносы
- ж) налог на прибыль предприятий
- з) налог на личные доходы

8. Выделите четыре главных статьи расходов государственного бюджета стран с развитыми рыночными отношениями:

- а) административно-управленческие расходы
- б) выплаты по государственному долгу внешнему и внутреннему
- в) займы и помощь иностранным государствам
- г) расходы на социальные услуги
- д) расходы на военные нужды и национальную оборону
- е) затраты на хозяйственные нужды
- ж) расходы на охрану и улучшение окружающей среды

9. Определите, какой из перечисленных ниже налогов не может быть перенесён на конечного потребителя?

- а) акцизный налог
- б) налог на добавленную стоимость
- в) налог на наследство
- г) таможенная пошлина
- д) все вышеперечисленные налоги

10. Кривая Лаффера характеризует:

- а) неравенство в распределении доходов между разными категориями населения страны
- б) связь между уровнем безработицы и уровнем цен в стране
- в) связь между размером налоговой ставки и объемом налоговых выплат
- г) связь между доходами и расходами населения

11. При введении пропорционального налога:

- а) с ростом доходов из каждого дополнительного рубля доходов забирается меньшая часть доходов;
- б) государство получает одинаковые поступления в бюджет (в абсолютном выражении) от налогов при всех уровнях доходов;
- в) с ростом доходов из каждого дополнительного рубля доходов забирается одинаковый процент;
- г) с ростом доходов из каждого дополнительного рубля доходов забирается большая часть доходов

12. Бюджетный профицит возникает в случае:

- а) возрастания государственных расходов
- б) превышения государственных расходов над государственными доходами
- в) превышения государственных доходов над государственными расходами
- г) возрастания налоговых поступлений в государственный бюджет

13. Дефицит государственного бюджета может финансироваться за счет:

- а) эмиссии денег Центральным банком страны
- б) продажи через Центральный банк страны государственных ценных бумаг
- в) получения кредитов у международных финансовых организаций
- г) всех указанных выше источников

14. Снижая налоги, правительство страны стремится:

- а) не допустить перегрева экономики (перепроизводства товаров)
- б) замедлить темп роста цен (инфляции)
- в) снизить уровень безработицы
- г) замедлить быстрый рост процентных ставок

15. Какие из перечисленных ниже способов государство может использовать для борьбы с дефицитом бюджета?

- а) сокращение бюджетных расходов
- б) эмиссию денег, используемых для финансирования государственных расходов
- в) изыскание источников дополнительных доходов бюджета, например, за счет увеличения налогов
- г) получение займа у банков, граждан, других государств
- д) все вышеперечисленные способы
- е) только способы "а" и "в"

16. Увеличение ставки налога на прибыль:

- а) всегда влечёт за собой увеличение поступлений налога в казну
- б) уменьшает совокупный инвестиционный спрос
- в) увеличивает объём государственных закупок
- г) правильного ответа нет

17. Правительство может снизить налоги для того, чтобы:

- а) увеличить выплаты по социальным программам
- б) увеличить потребительские расходы и стимулировать экономику
- в) замедлить быстрый рост процентных ставок
- г) сократить инвестиционный спрос фирм

18. Государственный долг - это сумма предшествующих:

- а) государственных расходов
- б) бюджетных дефицитов
- в) бюджетных дефицитов за вычетом излишков (профицитов)
- г) бюджетных излишков за вычетом дефицитов

19. К встроенным автоматическим стабилизаторам относятся:

- а) прогрессивный подоходный налог
- б) субсидии фермерам
- в) пособия по безработице
- г) все перечисленное верно

20. Правительства большинства стран применяют прогрессивные ставки налогов к личным доходам населения, так как:

- а) это приводит к росту сбережений и соответственно инвестиций
- б) снижается дифференциация населения по уровню располагаемых доходов
- в) увеличивается поступление средств в государственный бюджет
- г) уравниваются заработки чиновников и предпринимателей

21. Фискальная политика как наиболее эффективное средство макроэкономической стабилизации рассматривается:

- а) в монетаристской концепции
- б) в кейнсианской теории
- в) в теории рациональных ожиданий

г) в теории социального рыночного хозяйства

22. Если налоговая нагрузка на бизнес возрастет, то:

- а) сократится совокупное предложение, а совокупный спрос возрастет
- б) сократится совокупный спрос
- в) сократится совокупное предложение, а совокупный спрос останется неизменным
- г) сократится и совокупное предложение, и совокупный спрос

23. Дефицит государственного бюджета образуется в тех случаях, когда:

- а) сумма активов государства превышает его обязательства
- б) сумма налоговых поступлений сокращается
- в) расходы государства превышают сумму налоговых поступлений
- г) расходы государства увеличиваются

24. К каким экономическим последствиям может привести рост внутреннего государственного долга?

- а) к сокращению производственных возможностей национальной экономики
- б) к перераспределению национального богатства между членами общества
- в) к снижению уровня жизни в стране
- г) к увеличению совокупных национальных расходов

25. Относительные расходы по обслуживанию государственного долга измеряются:

- а) суммой государственного долга
- б) отношением размеров долга к объёму ВВП
- в) суммой процентных выплат по долгу

г) отношение суммы процентных выплат к объёму ВВП

26. Налог на доход в 20 тыс.руб. составляет 4000 руб. Если этот доход увеличится до 22 тыс.руб., то налог вырастет до 4800 руб., а предельная норма подоходного налога составит:

- а) 20% б) 25% в) 30% г) 40%

27. Стимулирующая фискальная политика включает:

- а) повышение налогов и уменьшение правительственных расходов
б) снижение налогов и уменьшение правительственных расходов
в) снижение налогов и увеличение правительственных расходов
г) повышение налогов и увеличение правительственных расходов

28. Какой является политика налогообложения, если - по мере роста доходов - ставка налога последовательно равна 10%, 20%, 25%, 28%?

- а) прогрессивной в) регрессивной
б) пропорциональной г) дегрессивной

29. Сдерживающая фискальная политика включает:

- а) повышение налогов и увеличение правительственных расходов
б) повышение налогов и уменьшение правительственных расходов
в) снижение налогов и уменьшение правительственных расходов
г) снижение налогов и увеличение правительственных расходов

30. Политика налогообложения является дегрессивной, если налоговые ставки по мере роста доходов меняются следующим образом:

- а) 10%, 10%, 10%, 10% в) 4%, 6%, 8%, 10%
б) 10%, 8%, 6%, 4% г) 10%, 15%, 18%, 20%

31. Если государство, используя налогово-бюджетные инструменты, устанавливает предельную цену на товар "X" ниже уровня равновесной рыночной цены, то:

- а) возникает дополнительный спрос на данный товар и на рынке образуется дефицит
- б) образуется излишек предложения этого товара
- в) повысится качество данного товара
- г) объёмы производства данного товара останутся неизменными

32. К прямым налогам НЕ относятся:

- а) акцизный налог
- б) подоходный налог с физических лиц
- в) налог на имущество граждан
- г) налог на прибыль предприятий

33. К инструментам налогово-бюджетной политики относится:

- а) выпуск Министерством финансов новой серии краткосрочных государственных облигаций
- б) увеличение нормы обязательных резервов
- в) распределение утвержденного объема государственных расходов по различным статьям госбюджета
- г) покупка Центральным банком государственных облигаций на открытом рынке

34. Налог на добавленную стоимость относится к:

- а) прогрессивным подоходным налогам
- б) прямым налогам
- в) налогам на имущество физических лиц
- г) косвенным налогам
- д) пропорциональным налогам

35. Правительственная политика в области государственных расходов и налогообложения называется:

- а) монетарной политикой
- б) фискальной политикой
- в) социальной политикой
- г) денежной политикой

36. Налог на доход 40 тыс. руб. составляет 4000 руб. Если доход увеличится до 60 тыс. руб., то налог возрастет до 12 тыс. руб. Предельная ставка или норма составит:

- а) 20%
- б) 30%
- в) 40%
- г) 50%

37. Под финансами понимается:

- а) система отношений по поводу безналичных денежных расчетов
- б) система отношений по поводу формирования, распределения и использования фондов денежных средств
- в) сумма денег, имеющаяся в распоряжении государства, физических и юридических лиц
- г) система отношений по поводу наличных денежных расчетов

38. Что является наиболее важным звеном финансовой системы?

- а) федеральное казначейство
- б) фонды социального страхования
- в) денежные фонды населения
- г) денежные фонды предприятий
- д) бюджеты разных уровней

39. В структуру единого (объединённого) бюджета России НЕ включается:

- а) федеральный бюджет
- б) бюджеты субъектов федерации
- в) федеральное казначейство
- г) местные бюджеты

40. Государственный долг не может привести к банкротству государства, так как оно:

- а) может рефинансировать долг
- б) может увеличить массу денег и погасить долг
- в) может отказаться от погашения долга
- г) все предыдущие ответы верны

41. Одна из реальных проблем внешнего государственного долга заключается в том, что:

- а) сокращается неравенство в доходах;
- б) возрастают стимулы повышения эффективности производства
- в) часть национального продукта уходит за пределы страны
- г) возрастает доля сбережений при всех уровнях располагаемого дохода

42. Экономика страны характеризуется следующими данными: $V=8000$ (доход), $C=5000$ (потребление), $I=1000$ (инвестиции), $G=3000$ (государственные расходы), $T=2000$ (налоги). На основании этих данных можно сделать вывод, что в стране:

- а) профицит государственного бюджета составляет 5000
- б) дефицит государственного бюджета составляет 1000
- в) государственный бюджет сбалансирован
- г) профицит государственного бюджета составляет 1000

43. Если с высоких доходов берётся больший процент, чем с низких, то имеет место:

- а) косвенный налог
- б) прогрессивный налог
- в) пропорциональный налог
- г) регрессивный налог

44. Если бы экономика переживала спад, то подходящей фискальной политикой явилось бы:

- а) сокращение расходов на оборону и социальные программы

- б) повышение налогов и уменьшение расходов для сбалансирования бюджета
- в) снижение налогов, увеличение государственных расходов и повышение дефицита государственного бюджета
- г) сокращение дефицита государственного бюджета

45. Кривая Лаффера описывает связь между:

- а) инфляцией и безработицей
- б) ВВП и безработицей
- в) доходами и расходами государственного бюджета
- г) ставками налогов и налоговыми поступлениями в государственный бюджет

46. При пропорциональной системе налогообложения степень неравенства в обществе после взимания налогов:

- а) изменяется, если доля лиц с высоким уровнем доходов достаточно велика
- б) увеличивается
- в) не изменяется
- г) уменьшается

47. Функция налогов имеет вид $T=400+0,2V$, а функция социальных трансфертов $TR=600-0,1(V-VF)$, государственные закупки $G=720$. Потенциальный объём производства $VF=5000$. Если фактический объём национального производства на 100 больше потенциального уровня, то государственный бюджет будет иметь:

- а) дефицит 120
- б) профицит 110
- в) профицит 120
- г) дефицит 110

48. Если автономные государственные расходы увеличились на 20 млн. руб., а налоги уменьшились на 20 млн. руб., предельная

г) мерами правительства по изменению ставок налогообложения

53. Принцип получаемых выгод в системе налогообложения означает, что:

- а) тяжесть налогового бремени не должна зависеть от размера получаемого дохода
- б) тяжесть налогового бремени должна зависеть от социального положения
- в) физические и юридические лица должны уплачивать налог пропорционально тем выгодам, которые они получили от государства
- г) тяжесть налогового бремени должна зависеть от того, в каком секторе работает экономический агент - государственном или частном

54. К акцизам относится:

- а) налог на наследство
- б) налог на имущество
- в) налог на добавленную стоимость
- г) налог, начисляемый на табак

55. Правительство страны облагает производителей ликеро-водочной продукции акцизным налогом в размере 95% от её стоимости. Производители увеличивают цену реализуемой продукции на величину взимаемого налога. Определите, кто реально оплачивает этот налог:

- а) производители продукции
- б) все налогоплательщики страны
- в) потребители данной продукции
- г) правительство страны

56. При доходах 100, 1000 и 10000 ден. ед. для их получателей вводится единый по величине налог - 10 ден. ед. Определите, какой это налог?

- а) регрессивный
- б) прогрессивный
- в) дегрессивный
- г) пропорциональный
- д) комбинированный

400000	60000	б) регрессивная
600000	150000	в) пропорциональная
800000	240000	г) дегрессивная
1000000	320000	д) комбинированная

Снова не вижу разницы между регрессивной и дегрессивной системой.
Посмотреть учебники по налогообложению.

62. По данным, приведенным в таблице, определите является ли налог:

Уровень дохода, руб.	Уровень налога, руб.	
800000	96000	а) прогрессивная
1500000	180000	г) дегрессивна
2500000	300000	б) регрессивная
5000000	600000	в) пропорциональная
6000000	780000	д) комбинированная
7000000	1050000	
8000000	1600000	

63. Определите, что может произойти, если правительство увеличит свои расходы в условиях полной занятости:

- а) цены будут снижаться
- б) цены будут расти
- в) возникнет массовая безработица
- г) государственная задолженность будет снижаться

64. Определите, какой из налогов приводит к изъятию относительно большей части доходов у малоимущих семей:

- а) прогрессивный налог
- б) регрессивный налог
- в) пропорциональный налог
- г) дегрессивный налог

**Решение задач для развития навыков владения
экономическими расчётами**

Задача №1. Валовой внутренний продукт в условиях полной занятости составляет 200 млрд. руб. Фактический объём ВВП равен 160 млрд. руб. Сумма налогов составляет 10% от величины ВВП. Государственные расходы на закупку товаров и услуг равны 18 млрд. руб. Определите:

1) сводится ли государственный бюджет при фактическом ВВП с дефицитом или профицитом и каков их размер?

2) как изменится сальдо государственного бюджета в условиях достижения полной занятости?

Ответы: 1) дефицит 2 млрд. руб.; 2) профицит 2 млрд. руб.

Задача №2. Правительство получило заём иностранных банков в размере 1 млрд. долл. по годовой ставке 8% на 5 лет. Эти средства инвестируются в реализацию проектов, которые позволяют увеличить национальный продукт страны ежегодно на 300 млн. долл. Определите:

1) приведёт ли этот заём к увеличению государственного долга страны и в каком размере?

2) вырастет ли чистое финансовое бремя, налагаемое на граждан данной страны этим займом? Обоснуйте свой ответ расчётом.

Ответы: 1) долг увеличится на 1 млрд. долл.; 2) нет.

Задача №3. Предположим, что подоходный налог взимается по единой ставке 30% со всего дохода, превышающего 5000 долл. Исходя из этого, определите:

1) предельную и среднюю ставку налога с доходов в 3000, 9000, 12000 и 20000 долл.;

2) предельную и среднюю ставку налога для указанных в пункте 1 уровней доходов при условии, что доход, превышающий 5000 долл. облагается, как и прежде, налогом по ставке 30%, но ставка налога повышается до 50% при доходе, превышающем 10000 долл.

Ответы: 1) предельная ставка = 30%; средняя ставка = 0%; 13,3%; 17,5%; 22,5%.

2) предельная ставка = 30% и 50%; средняя ставка = 0%; 13,3%; 20,8%; 32,5%.

Задача №4. Экономика страны характеризуется следующими данными (млрд. руб.):

- фактический доход = 4000;

- предельная склонность к потреблению = 0,8;

- равновесный доход = 4200.

Определите:

1) как должны измениться правительственные расходы (при прочих равных условиях) для того, чтобы экономика достигла равновесного состояния?

2) как должна измениться величина налоговых поступлений (при прочих равных условиях) для того, чтобы экономика достигла равновесного состояния?

Ответы: 1) расходы правительства должны увеличиться на 40 млрд. руб.; 2) налоговые поступления должны уменьшиться на 50 млрд. руб.

Задача №5. Правительство увеличивает расходы на 20 млрд. руб. и одновременно повышает налоги на 20 млрд. руб. Предельная склонность к потреблению равна 0,8. Определите, как изменится величина ВВП:

1) за счёт роста государственных расходов?

2) за счёт увеличения налогов?

3) за счёт того и другого вместе?

Ответы: 1) увеличится на 100 млрд. руб.; 2) уменьшится на 80 млрд. руб.; 3) увеличится на 20 млрд. руб.

Задача №6. Спрос и предложение на товар заданы функциями: $Q_d = 11 - P$; $Q_s = 2P - 4$. Определите, какие изменения произойдут на рынке, если:

1) государство введёт налог с покупателей в размере 6 руб. за единицу товара. Кто фактически заплатит налог? Сделайте расчёты.

2) государство введёт такой же налог, но с производителей. Кто фактически заплатит налог? Сделайте расчёты.

Ответы: 1) равновесная цена увеличится на 4 руб.; рыночный механизм переложит 33,3% налога на производителей;

2) равновесная цена увеличится на 4 руб.; рыночный механизм переложит 66,7% налога на покупателей.

Задача №7. Издатель выпустил 10 тыс. книг. Себестоимость одной книги равна 60 руб., а доля покупных материалов и услуг сторонних организаций составила 50% от себестоимости. По какой цене должен продавать книги издатель, чтобы оставшаяся у него часть прибыли была не меньше 380 тыс. руб., если налог на прибыль равен 24%, налог на добавленную стоимость (НДС) - 20%, а от других налогов он освобождён?

Ответ: цена книги 126 руб.

Задача №8. В закрытой экономике сокращение налогов на 10 млрд. руб. привело к росту ВВП на 30 млрд. руб. Определите величину налогового мультипликатора.

Задача №9. Государственные расходы сокращаются на 100 ден. ед. Предельная склонность к потреблению (MPC) равна 0,8. Определите, как изменится величина национального дохода.

Задача №10. Допустим, что в исходном состоянии государственный бюджет был сбалансирован, а государственные расходы составляли 250 ден.

ед. Предельная склонность к потреблению (MPC) равна 0,75. Налоговая ставка - 0,2. Затем государственные расходы возросли на 100 ден. ед. Определите (в ден. ед.):

1) величину национального дохода до и после увеличения государственных расходов;

2) прирост налоговых поступлений в государственный бюджет, если ставка налогов не изменилась;

3) увеличение величины дефицита государственного бюджета после повышения государственных расходов.

Ответы: 1) 1000 и 1400; 2) 80; 3) 20.

Ответы к тестовым вопросам темы 11

1-а,б,в; 2-а,б,в; 3-а,в,г; 4-а,б,в,г; 5-а,б,в; 6-а,б,в; 7-г,е,ж,з; 8-а,д,е,ж; 9-в; 10-в; 11-в; 12-в; 13-г; 14-в; 15-д; 16-б; 17-б; 18-в; 19-г; 20-б; 21-б; 22-в; 23-в; 24-б; 25-г; 26-г; 27-в; 28-г; 29-б; 30-г; 31-а; 32-а; 33-в; 34-г; 35-б; 36-в; 37-б; 38-г; 39-в; 40-г; 41-в; 42-б; 43-б; 44-в; 45-г; 46-в; 47-б; 48-в; 49-г; 50-а; 51-б; 52-а; 53-б; 54-г; 55-в; 56-а; 57-д; 58-б; 59-в; 60-а; 61-г; 62-д; 63-б; 64-б.

Тема 12. ДЕНЬГИ, КРЕДИТ И КРЕДИТНО-ДЕНЕЖНАЯ ПОЛИТИКА ГОСУДАРСТВА

Учебные цели темы

1. Выяснить природу современных денег, определение их стоимости и выполняемых функций.

2. Понять как формируется предложение и спрос на деньги и каким образом рынок денег приводится в равновесное состояние.

3. Изучить роль кредита и банков в организации денежного обращения. Раскрыть понятие и механизм действия денежного мультипликатора.

4. Познакомиться с основными видами ценных бумаг и уяснить роль рынка ценных бумаг в рыночной экономике.

5. Объяснить содержание и цели кредитно-денежной политики, а также взаимосвязь инструментов, используемых для регулирования количества денег, требующихся для обращения в национальной экономике.

**Основные термины, содержание которых необходимо знать,
для реализации учебных целей**

12.1. Особенности современных денег, их виды и функции

1. Декретная природа современных денег
2. Покупательная сила денег
3. Функции современных денег
4. Денежная система страны и её структура
5. Законы денежного обращения

12.2. Предложение и спрос на денежном рынке

- | | |
|--------------------------------|---------------------------------------|
| 1. Денежный рынок | 7. Спрос на деньги: |
| 2. Денежная база | а) операционный (транзакционный) |
| 3. Денежная масса | б) спекулятивный |
| 4. Ликвидность денег | в) общий |
| 5. Денежные агрегаты | 8. Равновесие спроса и предложения на |
| 6. Источники предложения денег | денежном рынке |

12.3. Кредит как инструмент регулирования количества денег в обращении

- | | |
|------------------------------------|---------------------------------|
| 1. Понятие кредита | 9. Резервы банка (по источникам |
| 2. Структура кредитной системы | формирования и по направлениям |
| 3. Ссудный капитал и источники его | использования) |
| формирования | 10. Операции банка |
| 4. Ссудный процент | 11. Прибыль банка и её норма |

- | | |
|-------------------------------------------|-------------------------------------------------------------------|
| 5. Номинальная и реальная ставка процента | 12. Норма обязательных резервов коммерческих банков |
| 6. Формы кредита | 13. Банковский мультипликатор |
| 7. Функции кредита | 14. Процесс создания денег отдельным банком и банковской системой |
| 8. Банк и банковская система | |

12.4. Ценные бумаги в системе инструментов регулирования денежного рынка

- | | |
|----------------------------|----------------------------------------------|
| 1. Ценные бумаги и их виды | 7. Рынок ценных бумаг |
| 2. Акции и их виды | а) первичный |
| 3. Контрольный пакет акций | б) вторичный (уличный и биржевой) |
| 4. Номинал акции и её курс | 8. Листинг |
| 5. Дивиденд | 9. Влияние государства на рынок ценных бумаг |
| 6. Облигации и их виды | |

12.5. Цели и основные инструменты кредитно-денежной политики государства

1. Цель кредитно-денежной политики государства
2. Изменение нормы обязательных резервов коммерческих банков
3. Операции на открытом рынке
4. Политика учётной ставки
5. Мягкая денежная политика (политика "дешёвых денег")
6. Жёсткая денежная политика (политика "дорогих денег")
7. Макроэкономические последствия монетарной политики

Тесты для самоконтроля умений анализа усвоенных знаний

1. В денежный агрегат М1 не включаются

- | | |
|------------------------------------|------------------------------|
| а) бесчековые сберегательные счета | в) дорожные чеки |
| б) чековые вклады | г) наличные деньги в обороте |

2. Если деньги для сделок совершают в среднем 5 оборотов в год, то количество денег, необходимых для обслуживания товарооборота:

- а) в 5 раз больше номинального объема ВВП
- б) составляют 20% от номинального объема ВВП
- в) равно номинальному объему ВВП
- г) равно росту ВВП плюс инфляция

3. Если номинальный объем ВВП составляет 4000 млрд. руб., а объем спроса на деньги для сделок составляет 800 млрд. руб., то:

- а) общий спрос на деньги составит 4800 млрд.руб.
- б) общий спрос на деньги составит 3200 млрд.руб.
- в) в среднем каждый рубль совершит 5 оборотов за год
- г) необходимо знать спрос на деньги для спекулятивных операций.

4. Норма ссудного процента может колебаться в пределах:

- а) от 0 до средней нормы прибыли
- б) от 0 до ставки рефинансирования
- в) от 0 до нормы банковской прибыли
- г) от 0 до нормы обязательных резервов банков

5. Банк - это предприятие, которое обязательно выполняет одну из следующих операций:

- а) ведет счета по операциям клиентов
- б) продает и покупает ценные бумаги
- в) продает и покупает деньги
- г) осуществляет наличные и безналичные расчеты фирм

6. Какая из операций банков является активной?

- а) привлечение новых клиентов в банк
- б) привлечение денежных средств в банк
- в) прибыльное размещение денежных средств
- г) осуществление расчетов между клиентами банка

7. Прибыль банка - это:

- а) процент по депозитам
- б) процент по кредитам
- в) разница между ставками процента по кредитам и депозитам
- г) разница между полученными и выплаченными процентами

8. Норма банковской прибыли - это отношение:

- а) чистой прибыли банка к собственному капиталу
- б) валовой прибыли банка к общим активам банка
- в) выплаченных процентов к обязательным резервам банка
- г) полученных процентов к заемному капиталу

9. Избыточные резервы коммерческого банка состоят из:

- а) активов, которые, не будучи деньгами, могут быть при необходимости быстро превращены в деньги
- б) денежных и "почти денежных" активов, хранящихся в банке и превышающих 100% объема банковских депозитов
- в) разницы между величиной фактических резервов и величиной обязательных резервов
- г) денег, которые должны храниться в банке, исходя не из текущей потребности в них, а исходя из требований закона

10. Норма обязательных резервов:

- а) вводится прежде всего как средство ограничения денежной массы

- б) вводится как средство, предохраняющее от изъятия вкладов
- в) составляет среднюю величину массы денег, необходимой для удовлетворения потребностей вкладчиков
- г) ни один из ответов не является верным

11. Если норма обязательных резервов составляет 100%, то величина денежного мультипликатора равна:

- а) 1
- б) 10
- в) 100
- г) невозможно определить

12. В банке "X" имеется депозит на 10000 руб. Норма обязательных резервов установлена на уровне 25%. Банк может предоставить ссуд на:

- а) 10000 руб.
- б) 7500 руб.
- в) 12500 руб.
- г) 25000 руб.

13. Какой набор финансовых активов в данный момент времени обладает самой высокой степенью ликвидности - акция "Газпрома", купюра в 1000 руб., депозит со сроком погашения три месяца:

- а) 1000 руб., депозит, акция
- б) акция, 1000 руб., депозит
- в) 1000 руб., акция, депозит
- г) депозит, 1000 руб., акция

14. Понятие спрос на деньги означает сумму денег:

- а) которую предприниматели хотели бы использовать для предоставления кредита при данной ставке процента
- б) которая необходима как средство обращения и как средство сохранения стоимости
- в) которую стремятся запасти на "черный день"
- г) которая позволяет сохранить покупательную силу денег

15. Правило монетаристов предполагает, что предложение денег должно расти темпами равными:

- а) темпу роста уровня процентной ставки
- б) темпу роста уровня цен
- в) темпу роста скорости обращения денег
- г) темпу роста реального ВВП и уровня цен

16. Спрос на деньги как на финансовые активы предъявляется в связи с тем, что деньги являются:

- а) средством обращения в) средством для расчетов
- б) счетной единицей г) средством сохранения и увеличения стоимости

17. Если номинальный ВВП сократится, то:

- а) сократится спрос на деньги для сделок, но вырастет общий спрос на деньги
- б) увеличится спрос на деньги для сделок, но сократится общий спрос на деньги
- в) сократится спрос на деньги для сделок и общий спрос на деньги
- г) увеличится спрос на деньги для сделок и общий спрос на деньги

18. Если центральный банк повышает учетную ставку, то эта мера направлена в первую очередь на:

- а) стимулирование роста объема ссуд, предоставляемых коммерческими банками своим клиентам
- б) снижение общей величины резервов коммерческих банков
- в) увеличение общего объема резервов коммерческих банков
- г) стимулирование роста величины сбережений населением.

19. Термин "операции на открытом рынке" означает:

- а) операции центрального и коммерческих банков по стимулированию кредитования предприятий и населения

- б) операции центрального банка по предоставлению ссуд коммерческим банкам
- в) операции центрального банка по покупке или продаже государственных ценных бумаг
- г) операции центрального банка по подготовке дополнительного выпуска денег в обращение

20. Если центральный банк продает большое количество государственных ценных бумаг на открытом рынке, то он преследует при этом цель:

- а) сделать кредит более доступным
- б) снизить учетную ставку
- в) уменьшить общую массу денег, находящихся в обращении
- г) облегчит покупку населением государственных ценных бумаг

21. Если центральный банк продает государственные ценные бумаги, то это ведет:

- а) к снижению уровня процентных ставок
- б) увеличению общей суммы личных накоплений граждан
- в) уменьшению объема ссуд, предоставляемых коммерческими банками своим клиентам
- г) увеличению объема ссуд, предоставляемых коммерческими банками своим клиентам

22. Если доход по облигации составляет 100 руб. в год, а ставка процента 10% годовых, то цена облигации будет равна:

- а) 100 руб.
- б) 1000 руб.
- в) 10000 руб.
- г) определить невозможно

23. Если центральный банк повысит норму обязательных резервов, то избыточные резервы коммерческих банков:

- а) возрастут
- б) сократятся
- в) не изменятся
- г) нет связи между нормой обязательных резервов и объемом избыточных резервов коммерческих банков

24. Если реальная процентная ставка увеличится, то:

- а) кривая спроса на инвестиции сдвинется вправо
- б) кривая спроса на инвестиции сдвинется влево
- в) инвестиционные расходы сократятся
- г) инвестиционные расходы возрастут

25. Трансакционный спрос на деньги:

- а) прямопропорционален номинальному ВВП
- б) обратнопропорционален ставке процента
- в) обратнопропорционален номинальному ВВП
- г) прямопропорционален ставке процента

26. Облигация отличается от акции тем, что облигация приносит:

- а) более высокий доход
- б) меньший доход, но дает право участвовать в управлении предприятием
- в) твердый доход, но не дает права на участие в управлении фирмой
- г) одинаковый по сравнению с акцией доход, но который выплачивается в первую очередь, т.е. до выплаты дивидендов

27. Курс акций зависит от:

- а) состояния рынка ценных бумаг и нормы ссудного процента
- б) количества выпущенных акций
- в) общего состояния национальной и мировой экономики
- г) величины дивиденда и нормы ссудного процента

28. Вкладывать деньги в облигации выгоднее, чем в акции, когда:

- а) надвигается спад в экономике в) растет инфляция
б) имеет место подъем в экономике г) снижается инфляция

29. Какой из приведенных показателей денежной массы НЕ верен?

- а) $M1 = \text{наличные деньги} + \text{чековые вклады}$
б) $M3 = M2 + \text{крупные срочные вклады}$
в) $M1 = M3 - M2$
г) $M2 = M1 + \text{сберегательные счета} + \text{мелкие срочные вклады}$

30. Какова величина обязательной резервной нормы, если избыточные резервы коммерческого банка в 5 млн.руб. позволяют увеличить денежное предложение до 20 млн.руб.?

- а) 5% б) 15% в) 20% г) 25%

31. Политика "дешевых денег" предполагает изменение нормы обязательных резервов и учетной ставки в направлении:

- а) повышение и повышение в) повышение и понижение
б) понижение и понижение г) понижение и повышение

32. Каково максимально возможное увеличение денежного предложения, если избыточные резервы коммерческих банков составляют 10 млрд.руб., а величина денежного мультипликатора равна 4?

- а) 0,4 млрд. руб. в) 40 млрд. руб.
б) 4 млрд. руб. г) 2,5 млрд. руб.

33. Политика "дорогих денег" предполагает изменение нормы обязательных резервов и учетной ставки в направлении:

- а) повышение и повышение
- б) понижение и понижение
- в) повышение и понижение
- г) понижение и повышение

34. Максимально возможное увеличение суммы предоставляемых коммерческим банком ссуд равно:

- а) фактическим резервам минус избыточные резервы
- б) активам банка за минусом собственного капитала
- в) избыточным резервам банка
- г) обязательным резервам банка

35. Ставка процента выросла с 8 до 10%. Держатель бессрочной ценной бумаги, которая приносит ему годовой доход 1000 руб., будет иметь:

- а) потери капитала в 500 руб.
- б) доход от прироста капитала 2500 руб.
- в) потери капитала в 2500 руб.
- г) доход от прироста капитала в 500 руб.

36. Политика "дорогих денег" предполагает:

- а) повышение нормы обязательных резервов банков
- б) снижение нормы банковских резервов
- в) понижение учетной ставки ссудного процента
- г) покупка центральным банком государственных ценных бумаг на открытом рынке

37. Появление кредита связано с функцией денег как:

- а) средства обращения
- б) средства платежа
- в) меры стоимости
- г) средства сбережения и накопления

38. Подходящим налогом не облагается:

- а) рента
- б) трансферт
- в) дивиденд
- г) процент

39. Под "ценой денег" понимают:

- а) покупательную способность денег
- б) издержки производства бумажных и металлических денег
- в) процент по кредитам
- г) процент по депозитам

40. Можно утверждать, что при прочих равных условиях количество денег в экономике уменьшится, если:

- а) резервную норму и учетную ставку увеличить
- б) резервную норму увеличить, а учетную ставку уменьшить
- в) резервную норму уменьшить, а учетную ставку увеличить
- г) резервную норму и учетную ставку уменьшить

41. Какая из операций центрального банка увеличивает количество денег в обращении?

- а) центральный банк покупает государственные облигации на открытом рынке у населения и коммерческих банков
- б) центральный банк повышает норму обязательных резервов
- в) центральный банк продает государственные облигации населению и банкам на открытом рынке
- г) центральный банк повышает учетную ставку процента

42. Политика дорогих денег:

- а) приводит к росту процентной ставки
- б) сокращает инвестиции
- в) сокращает инфляцию
- г) все предыдущие ответы верны

43. Определите, какая цель преследуется правительством при снижении ставки процента?

- а) стимулирование сбережений
- б) сокращение денежной массы
- в) сдерживание спроса на ссудный капитал
- г) оживление конъюнктуры рынка

44. Норма обязательных резервов:

- а) вводится прежде всего как средство ограничения объема денежной массы в стране
- б) вводится как средство, предохраняющее банковскую систему от изъятия вкладов
- в) вводится для увеличения объемов средств коммерческих банков
- г) представляет собой среднюю величину массы денег, необходимой для удовлетворения потребностей населения

45. Термин "учетная ставка" означает:

- а) уровень снижения цены для центрального банка, когда он скупает государственные ценные бумаги
- б) степень давления, оказываемого центральным банком на коммерческие банки с целью снижения объема выдаваемых ими ссуд
- в) процентную ставку по ссудам, предоставляемым центральным банком коммерческим банкам
- г) степень воздействия центрального банка на рост денежной массы и объема ВВП

46. Продажа государственных облигаций - это:

- а) элемент фискальной политики
- б) элемент монетарной политики
- в) элемент внешнеэкономической политики
- г) элемент социальной политики

47. Увеличение учетной ставки центральным банком приведет к:

- а) росту цен на акции и облигации
- б) росту цен на акции и снижению цен на облигации
- в) снижению цен на акции и росту цен на облигации
- г) снижению цен на акции и облигации

48. Определите, на величину какого из элементов ВВП оказывает наибольшее влияние изменение процентных ставок?

- а) потребительские расходы
- б) инвестиционные расходы
- в) государственные расходы
- г) экспорт
- д) импорт

49. Определите, как изменение банковской нормы обязательных резервов влияет на банковскую ставку процента?

- а) с ростом нормы резервирования уменьшается ставка процента
- б) со снижением нормы резервирования увеличивается ставка процента
- в) изменение нормы резервирования не влияет на ставку процента
- г) с ростом нормы резервирования увеличивается ставка процента

50. Банковская система страны, предоставляя деньги в займы, оказывает определенное влияние на объем денежной массы в народном хозяйстве. В результате денежная масса:

- а) уменьшается на общую величину банковских вкладов
- б) увеличивается на величину, меньшую общей суммы вкладов
- в) увеличивается на величину, равную общей суммы вкладов
- г) увеличивается на величину, большую общей суммы вкладов

51. Увеличение центральным банком ставки по вкладам и кредитам скорее всего приведет к:

- а) увеличению безработицы
- б) увеличению совокупного спроса
- в) уменьшению безработицы
- г) увеличению налоговых поступлений в бюджет

52. Общая денежная масса в стране возрастает, когда коммерческие банки:

- а) увеличивают свои вклады в Центральном банке страны
- б) увеличивают объем ссуд, предоставляемых населению и бизнесу
- в) увеличивают объемы закупок у Центрального банка государственных ценных бумаг
- г) уменьшают свои обязательства по текущим счетам, выплачивая деньги по вкладам

53. Если Центральный банк покупает на открытом рынке ценные бумаги на 10 млрд. руб. при денежном мультипликаторе, равном 2, то объем денежной массы в стране может:

- а) уменьшится на 5 млрд. руб.
- б) увеличится на 5 млрд. руб.
- в) возрасти на 20 млрд. руб.
- г) возрасти на 10 млрд. руб.
- д) уменьшится на 10 млрд. руб.
- е) остаться без изменений

54. Если Центральный банк осуществляет массовую продажу государственных ценных бумаг на открытом рынке, то:

- а) цена ценных бумаг увеличивается, а доходность падает
- б) цена ценных бумаг снижается, а доходность растет
- в) цена и доходность ценных бумаг возрастают
- г) цена и доходность ценных бумаг снижаются

55. Особенностью современных денег является то, что они:

- а) имеют собственную внутреннюю стоимость

- б) являются средством накопления богатства
- в) имеют определенное золотое содержание
- г) являются долговыми обязательствами банков и государства

56. Спрос на деньги для сделок изменяется следующим образом: - (2 варианта правильные)

- а) возрастает при увеличении процентной ставки
- б) возрастает при снижении процентной ставки
- в) снижается при уменьшении номинального ВВП
- г) возрастает при увеличении номинального ВВП

57. Термин "учетная ставка" означает: - (2 варианта правильные)

- а) степень воздействия центрального банка на рост денежной массы
- б) процентную ставку по ссудам, предоставляемым центральным банком коммерческим банкам
- в) уровень снижения цены государственных ценных бумаг, когда центральный банк скупает их у населения через коммерческие банки
- г) то же самое, что и ставка рефинансирования в России

58. К числу инструментов кредитно-денежной политики государства относятся: - (3 варианта правильные)

- а) изменение нормы обязательных резервов
- б) распределение утвержденного объема государственных расходов по различным статьям госбюджета
- в) покупка или продажа центральным банком государственных облигаций на открытом рынке
- г) увеличение налоговых ставок с целью увеличения социальных расходов
- д) регулирование ставки рефинансирования

59. Бумажные деньги подвержены инфляции при условии: - (2 варианта правильные)

- а) отсутствия их свободного размена на золото
- б) дополнительного выпуска бумажных денег в обращение
- в) изменения масштаба цен
- г) постоянного роста зарплаты, опережающего рост производительности труда
- д) опережающего роста ВВП по сравнению с ростом денежной массы

60. Основные функции кредитного рынка состоят в том, чтобы: - (3 варианта правильные)

- а) обеспечить население денежными средствами
- б) помочь предпринимателям в осуществлении инвестиционных проектов
- в) аккумулировать денежные средства для их выгодного вложения
- г) регулировать перемещение денег по отраслям и сферам экономики
- д) регулировать количество денег в обращении

61. Общая денежная масса возрастает всякий раз, когда коммерческие банки: - (2 варианта правильные)

- а) увеличивают свои вклады в центральном банке
- б) увеличивают выдачу вкладов своим клиентам
- в) увеличивают привлечение денег по вкладам
- г) увеличивают свои резервы сверх обязательных
- д) увеличивают проценты по кредитам

62. Политика "дешевых денег" включает следующие меры: - (3 варианта правильные)

- а) повышение нормы банковских резервов
- б) снижение нормы обязательных резервов

- в) понижение учетной ставки процента
- г) повышение учетной ставки процента
- д) покупка центральным банком государственных ценных бумаг на открытом рынке
- е) продажа центральным банком государственных ценных бумаг на открытом рынке

63. Политика "дорогих денег" включает следующие меры: - (2 варианта правильные)

- а) повышение нормы обязательных резервов коммерческих банков
- б) снижение нормы обязательных резервов коммерческих банков
- в) снижение учетной ставки процента
- г) повышение учетной ставки процента
- д) повышение остатков на счетах клиентов коммерческих банков
- е) покупка центральным банком государственных ценных бумаг на открытом рынке

64. Из перечисленного ниже: 1) монеты, 2) депозитные сертификаты, 3) чековые вклады, 4) облигации государственного займа, 5) банкноты, 6) текущие счета в коммерческих банках - в состав денежного агрегата М1 включают:

- а) 1,2,6 б) 2,4,6 в) 1,3,5 г) 1,2,5

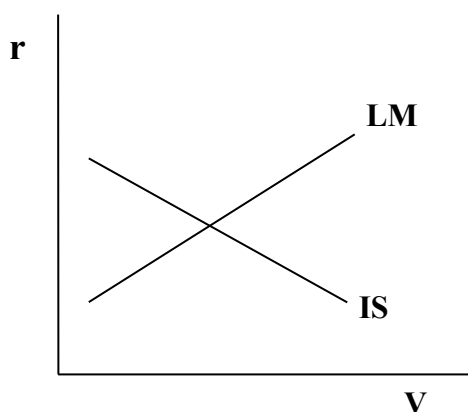
65. К инструментам денежно-кредитной политики относится:

- а) регулирование ставки рефинансирования (учётной)
- б) государственные расходы
- в) изменение ставки налогов
- г) денежная масса

66. Если в экономике страны депрессия, то при проведении кредитно-денежной (монетарной) политики Центральный банк должен:

- а) повысить учётную ставку рефинансирования
- б) повышать ставки налогов
- в) понизить норму обязательных резервов
- г) продавать государственные облигации

67. На рисунке IS-LM (инвестиции-сбережения * ликвидность-предпочтение денег). Если Центральный банк будет продавать частному сектору государственные облигации, то кривая:



На рисунке:
LM - кривая равновесия денежного рынка
IS - кривая равновесия товарного рынка
R – процентная ставка
V – уровень дохода

- а) IS сдвинется влево и доход уменьшится
- б) LM сдвинется влево и доход уменьшится
- в) LM сдвинется вправо и доход увеличится
- г) IS сдвинется вправо и доход увеличится

68. Если по корпоративной облигации выплачивается доход в первый год в размере 300 руб., во второй год - 320 руб., а в третий - 330 руб., то при ставке банковского процента 5% дисконтированная стоимость этого потока доходов составит (рублей):

- а) 925,42
- б) 861,03
- в) 936,57
- г) 882,13

69. Спекулятивный спрос на деньги связан с функцией денег как средство:

- а) платежа
- б) обращения
- в) сбережения
- г) стоимости

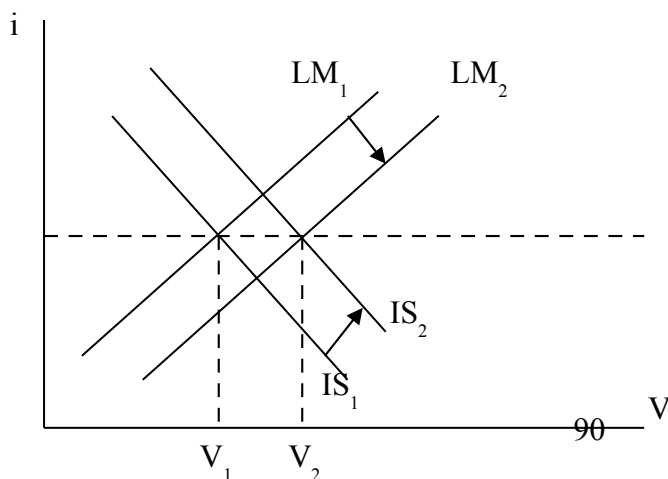
70. Если в экономике страны растёт инфляция, то при проведении кредитно-денежной (монетарной) политики Центральный банк должен:

- а) повышать налоговые ставки
- б) повышать норму обязательных резервов
- в) снизить учётную ставку (рефинансирования)
- г) скупать государственные облигации

71. Под предпочтением ликвидности в экономической теории понимается:

- а) желание поменять деньги на золотые слитки
- б) сильное желание быстро накопить определённую сумму
- в) желание вложить деньги в недвижимость
- г) более сильное желание обладать деньгами по сравнению с желанием владеть другими менее ликвидными благами

72. На графике показана модель IS-LM ("инвестиции-сбережения * ликвидность предпочтение денег"), характеризующая совместное равновесие товарного и денежного рынков.



Если в результате изменения ставки налога и количества денег в обращении процентная ставка (*i*) осталась неизменной, а

доход (V) вырос, то это произошло вследствие:

- а) увеличения количества денег и снижения ставки налога
- б) уменьшения количества денег и повышения ставки налога
- в) уменьшения количества денег и снижения ставки налога
- г) увеличения количества денег и повышения ставки налога

73. Кривая LM (ликвидность-предпочтения денег) характеризует множество равновесных сочетаний национального дохода и процентной ставки на рынке:

- а) одновременно благ и денег
- б) денег
- в) государственных облигаций
- г) товаров и услуг

74. Спекулятивный спрос на деньги зависит от:

- а) уровня цен на товары и услуги
- б) количества товаров и услуг
- в) уровня процентной ставки
- г) предложения денег

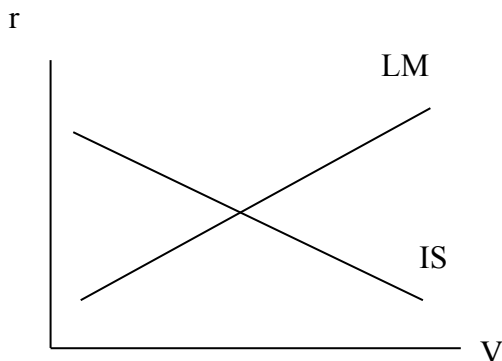
75. В развитых странах основным способом регулирования денежной массы является:

- а) политика золотовалютных резервов
- б) операции на открытом рынке, проводимые Центральным банком с государственными облигациями
- в) эмиссионная политика Центрального банка
- г) изменение Центральным банком нормы обязательных резервов

76. Если при неизменной процентной ставке реальный доход и уровень цен возрастут на 6%, то денежная масса в год увеличится на:

- а) 2%
- б) 10%
- в) 12%
- г) 6%

77. Согласно модели IS-LM увеличение налогов вызовет:



LM – кривая равновесия денежного рынка;
 IS – кривая равновесия товарного рынка;
 r – процентная ставка
 V – уровень дохода

- а) уменьшение дохода и ставки процента
- б) увеличение дохода и ставки процента
- в) уменьшение дохода и увеличение ставки процента
- г) увеличение дохода и снижение ставки процента

78. Допустим, что Центральный банк страны, осуществляя операции на открытом рынке ценных бумаг, скупает государственные облигации номинальной стоимостью 300 ден.ед. (при 9% годовых) по 335 ден. ед. В этом случае доходность по таким ценным бумагам будет составлять:

- а) 12%
- б) 11%
- в) 10%
- г) 9%
- д) 8%

79. Банковские депозиты в стране возросли на 400 млрд.руб. Норма резервирования на этот момент составляла 20%. Определите, каково возможное увеличение предложения денег (млрд.руб.):

- а) 200
- б) 400
- в) 80
- г) 2000
- д) предложение денег не изменится

80. Если Центральный банк покупает на открытом рынке ценные бумаги на 10 млрд. руб. при денежном мультипликаторе, равном 2, то объём денежной массы в стране может:

- а) уменьшиться на 5 млрд. руб. г) возрасти на 20 млрд. руб.
б) увеличиться на 5 млрд. руб. д) возрасти на 30 млрд. руб.
в) остаться без изменений

81. Избыточные резервы банка равны 3000 ден. ед., а общая сумма текущих вкладов - 30000 ден. ед., норма обязательных резервов составляет 20%. Фактические резервы банка по направлениям использования при этом составляют (ден.ед.):

- а) 3000 в) 9000 д) 27000
б) 6000 г) 18000

82. Допустим, что акция номинальной стоимостью 400 руб. приобретается по курсу 500 руб.; по ней выплачивается дивиденд в размере 25% годовых. Определите доходность акции:

- а) 15% б) 20% в) 25% г) 80%

83. Акция номинальной стоимостью 100 руб. ежегодно приносит доход (дивиденд) в размере 16 руб. Определите каким будет рыночный курс этой акции в рублях, если ставка банковского процента равна 10% годовых:

- а) 100 б) 110 в) 160 г) 116

84. При номинальной стоимости акции в 500 руб. её рыночная цена составила 2000 руб. Определите годовой дивиденд, полученный по этой акции, если ставка банковского процента в текущем году 5%:

- а) 50 руб. б) 100 руб. в) 200 руб. г) 400 руб.

**Решение задач для развития навыков владения
экономическими расчётами**

Задача №1. Структура денежных средств, находящихся в обороте страны состоит из следующих элементов (млрд. руб.):

- наличные деньги - 170;
- небольшие срочные вклады - 1630;
- крупные срочные вклады - 645;
- чековые вклады - 448;
- бесчековые сберегательные вклады - 300.

Определите величину денежных агрегатов M1, M2, M3.

Ответы: 618; 2548; 3193.

Задача №2. Реальный объём ВВП в течение трёх лет возрастал со скоростью 3% в год, а скорость обращения денег увеличивалась на 2% в год. Рассчитайте, с какой скоростью (в % за год) при этом должно увеличиваться предложение денег, т.е. количество денег, необходимых для обращения.

Ответы: приблизительно 1%, 2%, 3%.

Задача №3. Допустим, что каждый рубль, предназначенный для сделок, обращается в среднем 4 раза в год и направляется на покупку конечных товаров и услуг. Номинальный объём ВВП составляет 2000 млрд. руб. На основе уравнения обмена И.Фишера определите величину спроса на деньги для сделок.

Задача №4. Предположим, что спрос на деньги для сделок составляет 10% номинального объёма ВВП. Предложение денег равно 450 млрд. руб., а спрос на деньги со стороны активов задан таблицей.

Процентная ставка, %	Спрос за деньги со стороны активов, млрд. руб.
14	100
13	150
12	200
11	250

Если номинальный объём ВВП равен 3000 млрд. руб., то чему равна равновесная процентная ставка?

Ответ: 13%.

Задача №5. Капитал в 20 тыс. руб., ссуженный на 3 месяца, принёс доход в сумме 400 руб. Затем этот же капитал был отдан в ссуду сначала на 6 месяцев, а затем на 3 месяца из расчёта соответственно 5 и 2% годовых. Определите годовую норму процента (доходности) этого капитала.

Ответ: 5%.

Задача №6. Собственный капитал банка - 2, а заёмный - 10 млн.руб. Банк выплачивает по вкладам 3%, а получает за предоставленный кредит 5% годовых. Расходы по содержанию банка составляют 100 тыс. руб. Определите норму прибыли банка, если для ссуд используется: 1) только заёмный капитал; 2) весь капитал.

Ответы: 5% и 10%.

Задача №7. Банк располагает капиталом в 1 млн. руб., в том числе его собственный капитал составляет 200 тыс. руб. По пассивным операциям банк уплачивает 5% годовых, а по активным получает 6% годовых. Расходы по содержанию банка составляют 5 тыс. руб., а норма обязательных резервов равна 10%. Рассчитайте величину и норму чистой банковской прибыли, если в ссуду отдаётся весь капитал банка.

Ответы: 11 тыс. руб. и 5,5%.

Задача № 8. Коммерческий банк выдал кредит в сумме 10 тыс. руб. под сложные проценты - 6% годовых. Определите величину погасительного платежа, если срок пользования кредитом составляет 4 года.

Ответ: 12,6 тыс. руб.

Задача №9. Имеются следующие данные о состоянии денежного сектора экономики в млрд. руб.:

- депозиты - 536,9;
- обязательные банковские резервы - 55,6;
- избыточные резервы коммерческих банков - 30;
- наличные деньги в обращении - 183,5. Определите:

- 1) величину денежного агрегата M1;
- 2) денежную базу;
- 3) норму обязательных резервов;
- 4) величину банковского мультипликатора.

Ответы: 1)720,4; 2)269,1; 3)0,1; 4)10.

Задача №10. Норма обязательных резервов коммерческих банков составляет 20% от суммы вкладов до востребования. Допустим, что вкладчики увеличили сумму средств на вкладах до востребования в коммерческом банке N1 на 100 тыс. руб. Определите:

- 1) как это повлияет на величину общих резервов банков?
- 2) как изменится сумма избыточных резервов?
- 3) на какую сумму банк N1 может увеличить объём предоставляемых ссуд?
- 4) какую сумму денег может создать вся банковская система страны?

Задача №11. По облигации выплачивается процент в сумме 100 руб. в год. Определите:

- 1) чему будет равна цена облигации при ставке процента 12,5%?
- 2) какова будет ставка процента, если облигация продаётся по 2000руб.?

Ответы: 1) 800 руб.; 2) 5%.

Задача №12. Облигация продаётся по номиналу 1000 руб. и даёт постоянный доход 50 руб. в год. Определите, как изменится годовая ставка процента:

1) если предложение облигаций возрастёт и их цена упадёт на $\frac{1}{3}$ от номинала?

2) если спрос на облигации возрастёт в 2 раза?

Ответы: 1) ставка процента возрастёт до 7,5%;

2) ставка процента снизится до 2,5%.

Ответы на тестовые вопросы темы 12

1-а; 2-б; 3-в; 4-а; 5-в; 6-в; 7-г; 8-а; 9-в; 10-а; 11-а; 12-б; 13-в; 14-б; 15-г; 16-г; 17-в; 18-б; 19-в; 20-в; 21-в; 22-б; 23-б; 24-в; 25-а; 26-в; 27-г; 28-а; 29-в; 30-г; 31-б; 32-в; 33-а; 34-в; 35-в; 36-а; 37-б; 38-б; 39-а; 40-а; 41-а; 42-г; 43-г; 44-а; 45-в; 46-б; 47-г; 48-б; 49-г; 50-г; 51-а; 52-б; 53-в; 54-б; 55-г; 56-в,г; 57-б,г; 58-а,в,д; 59-а,г; 60-б,в,д; 61-б,г; 62-б,в,д; 63-а,г; 64-в; 65-а; 66-в; 67-б; 68-б; 69-в; 70-б; 71-г; 72-а; 73-а; 74-в; 75-б; 76-г; 77-а; 78-д; 79-г; 80-г; 81-в; 82-б; 83-в; 84-б.

Тема 13. ИНФЛЯЦИЯ И АНТИИНФЛЯЦИОННАЯ ПОЛИТИКА

Учебные цели темы

1. Понять сущность инфляции и способы измерения её уровня.
2. Выявить различия между видами инфляции и механизмами её течения.
3. Выяснить экономические и социальные последствия инфляции, её связь с безработицей.

4. Уяснить содержание системы антиинфляционных мер, осуществляемых правительствами для подавления инфляции.

**Основные термины, содержание которых необходимо знать,
для реализации учебных целей**

13.1. Понятие, измерение, виды, причины и механизмы инфляции

1. Понятие инфляции
2. Уровень инфляции
3. Индексы цен базисные и цепные
4. Индекс "стоимости жизни"
5. Индекс промышленных товаров
6. Индекс-дефлятор ВВП (из т.10)
7. Правило "величины 70"
8. Инфляция скрытая и открытая
9. Умеренная, галопирующая и гиперинфляция (суперинфляция)
10. Инфляция ожидаемая и неожиданная
11. Причины возникновения инфляции
12. Механизмы течения инфляции:
 - а) инфляция спроса;
 - б) инфляция предложения
13. Инфляционные ожидания

**13.2. Социально-экономические последствия инфляции
и система антиинфляционных мер**

1. Возможные позитивные последствия инфляции
2. Последствия инфляции негативного порядка:
 - а) экономические
 - б) социальные
3. Взаимосвязь инфляции и безработицы

4. Кривая Филлипса:

а) в условиях роста экономики;

б) в условиях спада экономики

5. Концепция ожиданий

6. Политика приспособления к инфляции (адаптивная)

7. Политика преодоления инфляции (антиинфляционная)

Тесты для самоконтроля умений анализа усвоенных знаний

1. В период ускоряющейся инфляции банковская ставка процента:

а) падает, потому что падает цена денег

б) падает, потому что падает уровень занятости

в) растет, потому что падает цена денег

г) не меняется.

2. Ярко выраженная антиинфляционная фискальная политика в условиях инфляции спроса предполагает:

а) повышение уровня налогообложения и сокращение государственных расходов

б) сокращение и налоговых поступлений, и государственных расходов

в) рост налогов и увеличение объемов государственных расходов

г) снижение ставки банковского процента и увеличение объемов государственных расходов.

3. Ярко выраженная антиинфляционная монетарная политика предполагает:

а) повышение уровня налогообложения и сокращения государственных расходов

б) увеличение ставки процента и продажу Центральным банком государственных облигаций

- в) снижение банковской нормы резервирования и продажу Центральным банком государственных облигаций
- г) покупку Центральным банком государственных облигаций и снижение ставки процента.

4. Через сколько месяцев цены вырастут в 2 раза, если месячный тем инфляции составляет 3,5%?

- а) 7
- б) 20
- в) 35
- г) 70

5. В отчетном году по сравнению с базисным: цены выросли на продовольственные товары - в 4 раза, на услуги - в 2,5 раза, на промышленные товары - в 3,5 раза; уровень доходов за это время повысился на 333%. Как изменился уровень жизни в отчетном году?

- а) повысился
- б) понизился
- в) не изменился
- г) определить невозможно

6. Определите величину ежемесячного темпа инфляции (в процентах), если цены удваиваются каждые 14 месяцев?

- а) 5%
- б) 7,8%
- в) 10%
- г) 2,8%

7. Для того, чтобы победить инфляцию, необходимо:

- а) прекратить эмиссию бумажных денег
- б) заморозить цены
- в) заморозить доходы
- г) сокращать расходы госбюджета, стимулировать деловую активность, ужесточить налоговую и кредитную политику

8. Освобождение цен от государственного контроля в России 2 января 1992 г. - это:

- а) настоящая либерализация цен и переход к рыночному ценообразованию

- б) отпуск на свободу огромного инфляционного потенциала, накопленного в подавленной форме в командной экономике
- в) государственное мероприятие по многократному административному повышению цен на товары и услуги
- г) временная мера, за которой последовала государственная политика жесткого регулирования цен на товары и услуги

9. Инфляция, сопровождаемая всеобщим государственным контролем за уровнем цен, называется:

- а) подавленной
- б) открытой
- в) ожидаемой
- г) сбалансированной

10. Уровень инфляции - это изменение за определенный период времени:

- а) паритета покупательной способности национальной валюты
- б) валютного курса
- в) среднего уровня цен
- г) учетной ставки процента


11. Наиболее предпочтительны для экономики виды инфляции:

- а) открытая, неожиданная, ползучая
- б) открытая, умеренная, ожидаемая
- в) скрытая, галопирующая, ожидаемая
- г) открытая, ожидаемая, галопирующая

12. Инфляция - это постоянно существующая в экономике тенденция повышения:


- а) цен на товары первой необходимости
- б) общего уровня цен
- в) предельного уровня цен
- г) цен на промышленные товары повышенного качества

13. Инфляция, вызванная избыточным спросом, иллюстрируется на графике сдвигом кривой совокупного...



- а) предложения вправо и вниз в) спроса влево и вниз
 б) спроса вправо и вверх г) предложения влево и вверх

14. Инфляция предложения или издержек иллюстрируется на графике сдвигом кривой совокупного...



- а) предложения вправо и вниз в) спроса влево и вниз
 б) спроса вправо и вверх г) предложения влево и вверх

15. Инфляция, вызванная избыточным спросом, может быть показана:

- а) сдвигом кривой совокупного спроса влево и вниз
 б) сдвигом кривой совокупного спроса вправо и вверх
 в) сдвигом кривой совокупного предложения влево и вверх
 г) сдвигом кривой совокупного предложения вправо и вниз

16. Менее всего пострадает от непредвиденной инфляции:

- а) тот, кто получает фиксированные номинальные доходы
 б) тот, у кого номинальный доход растет, но медленнее, чем цены

- в) тот, кто имеет денежные сбережения дома или на счетах в банке
- г) тот, кто стал должником тогда, когда цены были ниже

17. Крива Филлипса фиксирует связь между уровнем инфляции и:

- а) предложением денег
- б) уровнем безработицы
- в) реальной ставки процента
- г) номинальной зарплатой

18. Номинальная ставка процента составляет 10%, а реальная - 4%. Тогда ожидаемый темп инфляции составит:

- а) 4%
- б) 14%
- в) 6%
- г) 10%

19. В текущем году ВВП страны увеличился по сравнению с прошлым годом на 500 млн. руб. и составил 3000 млн.руб. Дефлятор ВВП составил 1,25. Определите, какие изменения произошли в экономике страны?

- а) реальный ВВП снизился на 4%
- б) номинальный ВВП увеличился на 25%
- в) реальный ВВП увеличился на 20%
- г) инфляция увеличилась на 20%

20. Под инфляцией понимается рост цен, вызываемый:

- а) несовпадением спроса и предложения на рынках отдельных товаров
- б) монопольным сговором предпринимателей
- в) чрезмерным выпуском денег в обращение
- г) быстрым ростом номинального ВВП

21. Если цены растут со скоростью до 10% в год, то это инфляция:

- а) скрытая
- б) умеренная
- в) галопирующая
- г) сбалансированная

22. Во время инфляции:

- а) номинальный ВВП растет так же, как и реальный ВВП
- б) номинальный ВВП растет быстрее, чем реальный ВВП
- в) номинальный ВВП растет медленнее, чем реальный ВВП
- г) рост номинального и реального ВВП во время инфляции никак не связаны между собой

23. Реакцией на возросший риск непредвиденной инфляции является:

- а) попытки правительства осуществлять индексацию трансфертных платежей и фиксированной заработной платы бюджетников
- б) стремление людей вкладывать деньги в активы, которые не обесцениваются в период инфляции
- в) повышение банками процентных ставок по вкладам
- г) все предыдущие ответы верны

24. В условиях инфляции относительно выигрывают:

- а) получатели фиксированных доходов
- б) работающие на государственных предприятиях
- в) вкладчики сбережений в банках
- г) дебиторы (должники)

25. С точки зрения скорости повышения цен выделяют инфляцию:

- а) ползучую (умеренную) и галопирующую
- б) сбалансированную и несбалансированную
- в) ожидаемую и неожиданную
- г) скрытую и открытую

26. Основной причиной инфляции является:

- а) колебание цен на мировом рынке
- б) отрицательное сальдо платежного баланса страны
- в) дефицит государственного бюджета
- г) сокращение поступлений от внешней торговли

27. Сочетание инфляции спроса, инфляции издержек и инфляционных ожиданий порождает:

- а) неожиданную инфляцию
- б) подавленную инфляцию
- в) прогнозируемую инфляцию
- г) инфляционную спираль

28. Графическое изображение зависимости между инфляцией и безработицей называется:

- а) кривой производственных возможностей
- б) кривой Филипса
- в) кривой инфляционных ожиданий
- г) кривой экономического равновесия в условиях стабильности цен

29. Стагфляцией называют сочетание:

- а) высоких темпов инфляции и высокого уровня безработицы
- б) высоких темпов инфляции и низкого уровня безработицы
- в) низких темпов инфляции и высокого уровня безработицы
- г) низких темпов инфляции и низкого уровня безработицы

30. "Индекс нищеты" представляет собой:

- а) сумму уровней безработицы и инфляции
- б) сумму уровней реальной и номинальной процентных ставок
- в) разница между темпами роста ВВП и уровнем цен
- г) разница между средними уровнями заработной платы и пенсии

31. "Ловушкой бедности" называют:

- а) ситуацию, когда незанятый, получая пособие по безработице, не намерен искать работу под предлогом того, что будущая зарплата может оказаться меньше пособия по безработице
- б) ситуацию, когда минимальная заработная плата оказывается меньше прожиточного минимума
- в) ситуацию, когда пенсия оказывается меньше прожиточного минимума
- г) ситуация, при которой пособия по безработице постоянно сокращаются

32. Какие мероприятия следует провести, чтобы предотвратить ускоряющуюся инфляцию? – (2 варианта правильные)

- а) расширить продажу товаров в кредит
- б) осуществить дополнительную эмиссию денег
- в) увеличить производство товаров и услуг
- г) снизить государственные расходы на военные цели
- д) ускорить оборачиваемость денег

33. Инфляция спроса может возникнуть в результате: - (3 варианта правильные)

- а) роста цен на сырье и материалы производственного назначения
- б) роста государственных расходов на товары и услуги
- в) покрытия дефицита государственного бюджета с помощью займа у Центрального банка
- г) повышения налогов на производителей
- д) быстрого роста заработной платы, пенсий, пособий, выплачиваемых из государственного бюджета

34. Инфляция предложения может возникнуть в результате: - (3 варианта правильные)

- а) роста заработной платы, опережающей рост производительности труда

- б) резкого повышения цен на топливо и энергию
- в) повышения налогов на производителей
- г) роста государственных расходов на товары и услуги
- д) покрытия бюджетного дефицита с помощью займов у Центрального банка

35. Инфляционный налог - это: - (2 варианта правильные)

- а) доход, извлекаемый государством в результате выпуска в обращение дополнительного количества денег
- б) издержки владельцев денег от роста цен
- в) налог на имущество физических и юридических лиц
- г) налог с продаж и НДС
- д) акцизные налоги и ввозные пошлины на предметы роскоши

36. Борьба с инфляцией спроса предполагает использование следующих мероприятий: - (3 варианта правильные)

- а) увеличение предложения денег
- б) снижение ставки процента
- в) увеличение нормы обязательных резервов коммерческих банков
- г) увеличение государственных расходов
- д) повышения процентных ставок
- е) продажу центральным банком государственных облигаций

37. Что из перечисленного ниже оказывает значительное влияние на инфляцию предложения? – (3 варианта правильные)

- а) рост занятости и объемов производства
- б) рост стоимости издержек на единицу продукции
- в) рост зарплаты, опережающий рост производительности труда
- г) рост процентной ставки по кредитам

д) снижение налогов на потребителей

38. Кейнсианская антиинфляционная политика включает: - (3 варианта правильные)

а) снижение государственных расходов

б) повышение налогов

в) ограничения на рост цен и заработной платы

г) снижение процентных ставок

д) покупку Центральным банком государственных облигаций у населения и коммерческих банков

39. Кривая Филлипса, отражающая зависимость между инфляцией и безработицей, в долгосрочном периоде будет:

а) линией с отрицательным наклоном

б) вертикальной линией

в) линией с положительным наклоном

г) горизонтальной линией

40. При подавленной инфляции:

а) государство осуществляет активные меры, направленные на подавление инфляции

б) государство сдерживает рост доходов

в) государство законодательно устанавливает допустимые темпы роста инфляции

г) рост цен отсутствует, но население сталкивается с дефицитом товаров

Решение задач для развития навыков владения

экономическими расчётами

Задача №1. Если цены растут со скоростью 10% в месяц, то:

- 1) на сколько процентов они вырастут за год?
- 2) через сколько месяцев они вырастут в 2 раза?

Ответы: 1) 313,8%; 2) приблизительно 7 месяцев.

Задача №2. Правительство получило заём на сумму 100 тыс. долл. сроком на 1 год по ставке 4% годовых. Определите:

- 1) какую сумму долга правительство должно выплатить в конце года?
- 2) какова будет сумма долга и величина процентов в условиях отсутствия инфляции?
- 3) если годовой темп инфляции составит 3%, то какова будет сумма долга и величина процентов, скорректированные на темп инфляции?

Ответы: 1) 100 тыс. долл.; 2) 100 и 4 тыс. долл.; 3) 103 тыс. долл. и 4120 долл.

Задача №3. Допустим, что индекс цен на потребительские товары учитывает только две группы товаров - продукты питания и жильё. Доля их в расходах населения равна соответственно - 0,33 и 0,67. Цены на продукты питания выросли на 20%, а на жильё снизились на 2%. Определите темп инфляции за год.

Ответ: 5,26%.

Задача №4. Три банка выплачивают по вкладам 44% годовых. Первый банк платит проценты раз в год, второй - раз в полгода, третий - раз в квартал. Годовой темп инфляции 50%. В каком банке наиболее выгодно хранить деньги, если вкладчик не будет снимать проценты в течение года. Рассчитайте возможные потери и доходы, если сумма вклада равна 10 тыс. руб.

Ответы: в первом банке потери 600 руб.; во втором потери 116 руб.; в третьем банке доход 180,7 руб.

Задача №5. Предприниматель одолжил знакомому 1000 руб. в условиях 12%-ной инфляции в год и хочет ровно через год получить реальные 1050 руб. Определите, какую номинальную ставку процента он должен при этом назначить.

Ответ: 17,6%.

Задача №6. Предприниматель одолжил знакомому 10000 руб., ставя условие получения ровно через год всей суммы с 10%-ной прибылью. Определите, какую сумму он потребует при возвращении долга в условиях 50%-ного годового темпа инфляции.

Ответ: 16500 руб.

Задача №7. Представьте, что в счёт погашения долга в 1000 руб., предоставленного на один год, вам возвращены в срок 1175 руб. Определите, какую норму прибыли вы получили, если годовой уровень инфляции в стране был равен 12%.

Ответ: 5,5%.

Задача №8. Функционирование условной экономики за прошедшие 4 года характеризовалось следующими показателями:

* ежегодный темп прироста ВВП в текущих ценах - 20%;

* ежегодный темп прироста ВВП в постоянных ценах - 10%.

Определите темп инфляции за истекшие 4 года.

Ответ: 141,9%.

Задача №9. В прошедшем году экономика условной страны характеризовалась следующими параметрами:

* потенциальный уровень ВВП - 4125 ден. ед.;

* фактический уровень ВВП - 3712,5 ден. ед;

* фактический уровень безработицы - 10%.

Определите естественный уровень безработицы в стране, если коэффициент Оукена равен 2,5.

Ответ: 6%.

Задача №10. Фактический объём ВВП в данном году был равен 2000 ден. ед., потенциальный объём ВВП составлял 2300 ден. ед. Естественный уровень безработицы равен 5%. Определите фактический уровень безработицы для данного года, если коэффициент Оукена равен 2,5.

Ответ: 10,2%.

Ответы на тестовые вопросы темы 13

1-в; 2-а; 3-б; 4-б; 5-г; 6-а; 7-г; 8-б; 9-а; 10-в; 11-б; 12-б; 13-б; 14-г; 15-б; 16-г; 17-б; 18-в; 19-а; 20-в; 21-б; 22-б; 23-г; 24-г; 25-а; 26-в; 27-г; 28-б; 29-а; 30-а; 31-а; 32-в,г; 33-б,в,д; 34-а,б,в; 35-в,д,е; 36-б,в,г; 37-а,б,в; 38-б; 39-г.

Тема 14. СОЦИАЛЬНАЯ ПОЛИТИКА ГОСУДАРСТВА В РЫНОЧНОЙ ЭКОНОМИКЕ

Учебные цели темы

1. Понять содержание социальной политики и показатели уровня и качества жизни.
2. Изучить виды доходов, оценку их уровня и показатели дифференциации доходов.
3. Рассмотреть проблемы социальной политики государства и способы перераспределения доходов.

**Основные термины, содержание которых необходимо знать,
для реализации учебных целей**

14.1. Содержание социальной политики и оценка её результативности

1. Понятие социальной политики
2. Цели социальной политики
3. Субъекты социальной политики
4. Результативность социальной политики и её измерение
5. Потребительская корзина
6. Уровень потребления (жизни):
 - а) рациональный
 - б) минимальный
 - в) физиологический жизни людей
7. Проблема бедности
8. Качество жизни и её индикаторы:
 - а) индекс развития человеческого потенциала
 - б) индекс интеллектуального потенциала общества
 - в) человеческий капитал на душу населения
 - г) продолжительность предстоящей

14.2. Доходы населения в рыночной экономике и принципы их распределения. Проблемы неравенства в распределении доходов

1. Общее понятие доходов
2. Виды доходов
 - а) по источникам происхождения
 - б) по материальному содержанию
 - в) по способам получения
3. Доходы номинальные и реальные

4. Функциональное и персональное распределение доходов
5. Дилемма эффективности и справедливости
6. Концепции распределения доходов:
 - а) уравнивательная
 - б) рыночная
7. Показатели дифференциации в распределении доходов:
 - а) кривая Лоренца
 - б) коэффициент Джини
 - в) децильный коэффициент
 - г) закон распределения Парето
8. Индекс нищеты
9. Ловушка бедности

Тесты для самоконтроля умений анализа усвоенных знаний

1. Индекс развития человеческого потенциала определяется совокупностью следующих индексов: - (3 варианта правильные)

- а) ожидаемой продолжительности жизни
- б) уровня образования
- в) ВВП на душу населения
- г) уровня безработицы
- д) уровня потребительских цен

2. Государство может вмешиваться в перераспределение доходов: - (2 варианта правильные)

- а) лишь до пределов, за которыми происходит разрушение рыночного механизма
- б) до полного выравнивания доходов между разными группами населения
- в) до достижения социальной стабильности в обществе
- г) когда экономика находится на подъеме
- д) когда экономика находится в упадке

3. Нелегальные трудовые доходы - это: - (3 варианта правильные)

- а) неустранимый элемент рыночного распределения доходов
- б) помеха экономическому развитию национальной экономики, которую следует устранить
- в) основная форма дохода производителей
- г) форма дохода, с которой уплачивается более высокий налог
- д) форма дохода, которая скрывается от налогообложения

4. Если коэффициент Джини близок к 1, то это свидетельствует о том, что: - (2 варианта правильные)

- а) распределение доходов в обществе близко к справедливому (равномерному)
- б) распределение доходов крайне неравномерно, а общество близко к социальному взрыву
- в) государство проводит эффективную политику перераспределения доходов
- г) общество утратило контроль за распределением доходов
- д) в экономике началась гиперинфляция

5. Государственная политика доходов в странах с рыночной экономикой преследует основную цель:

- а) установление государством одинакового размера заработной платы и жалования всем категориям занятых работников
- б) перераспределение доходов через систему налогов и социальных выплат, ведущее к сглаживанию социальных различий
- в) поддержание равной заработной платы в различных отраслях и сферах национальной экономики
- г) осуществление контроля за доходами лиц, имеющих различные источники этих доходов

6. Если номинальный доход повысился на 8%, а уровень цен вырос на 10%, то реальный доход:

- а) увеличился на 2%
- б) снизился на 2%
- в) увеличился на 8%
- г) снизился на 1%
- д) снизился на 18%

7. Если объем располагаемого дохода уменьшается, то, при прочих равных условиях:

- а) потребительские расходы не изменятся, а сбережения возрастут
- б) потребительские расходы сократятся, а сбережения не изменятся
- в) сократятся и потребительские расходы, и сбережения
- г) потребительские расходы возрастут, а сбережения уменьшатся

8. Если объем располагаемого дохода увеличится, то в стране:

- а) средняя склонность к потреблению и сбережению возрастет
- б) средняя склонность к потреблению повысится, а к сбережению упадет
- в) средняя склонность к потреблению упадет, а к сбережению возрастет
- г) средняя склонность к потреблению и сбережению не изменится

9. В странах с развитой рыночной экономикой в структуре доходов семьи наибольший удельный вес занимают:

- а) заработная плата и жалование
- б) доходы от владения собственностью
- в) доходы от ценных бумаг
- г) доходы от аренды

10. Бюджет семьи - это:

- а) общая сумма денежных доходов, которыми располагает семья
- б) общая сумма всех расходов семьи
- в) структура всех видов доходов и расходов семьи за определенный период времени
- г) сумма всех денежных доходов семьи за минусом всех расходов

11. Выберите наиболее точный показатель уровня жизни:

- а) денежный доход населения
- б) уровень сбережений населения
- в) реальный доход на душу населения
- г) номинальный доход на душу населения

12. Увеличение степени неравенства в распределении доходов в обществе отразится на положении кривой Лоренца:

- а) кривая Лоренца займет положение, соответствующее биссектрисе угла, образуемого осями X и Y
- б) кривая Лоренца смещается вниз от биссектрисы
- в) кривая Лоренца смещается вверх от биссектрисы
- г) все предыдущие ответы не верны

13. Трансфертные платежи - это:

- а) одна из форм заработной платы и жалования
- б) натуральные безвозмездные пособия работникам предприятия
- в) денежные выплаты государства отдельным лицам
- г) все предыдущие ответы верны

14. Если индекс Джини увеличивается, то:

- а) происходит нарастание неравенства в распределении доходов
- б) неравенство в распределении доходов сокращается
- в) не происходит никаких значительных изменений в распределении доходов
- г) все предыдущие ответы не верны

15. "Индекс нищеты" представляет собой:

- а) разницу между средним уровнем заработной платы и пенсии
- б) сумму уровней безработицы и инфляции

- в) разницу между темпами роста ВВП и уровнем цен
- г) сумму уровней номинальной и реальной заработной платы

16. "Ловушкой бедности" называют:

- а) ситуацию, когда минимальная заработная плата оказывается меньше прожиточного минимума
- б) ситуацию, при которой заработная плата постоянно растет, а безработица постоянно сокращается
- в) ситуацию, когда незанятый, получая пособие по безработице, не ищет работу под предлогом, что будущая зарплата будет меньше пособия по безработице
- г) ситуацию, когда пособия по безработице постоянно сокращаются

17. Показателем дифференциации доходов, равным отношению доходов самой обеспеченной 10% группы населения к доходам наименее обеспеченной 10% группы, является:

- а) децильный коэффициент
- б) квинтильный коэффициент
- в) коэффициент Джини
- г) коэффициент Лоренца

18. Переход от пропорционального к прогрессивному налогообложению при прочих равных условиях приведет:

- а) к сдвигу кривой Лоренца влево (вверх)
- б) к сдвигу кривой Лоренца вправо (вниз)
- в) к росту спроса на предметы роскоши
- г) к ухудшению положения беднейших слоев населения

19. Крива Лоренца за пять лет сдвинулась дальше от биссектрисы. Это означает:

- а) приближение к достижению социального равенства
- б) усиление дифференциации доходов населения

- в) уменьшение дифференциации доходов населения
- г) повышение жизненного уровня населения

20. Какие социальные категории населения больше всего нуждаются в государственной политике регулирования доходов в период высокой инфляции?

- а) наемные работники частных промышленных предприятий
- б) группы лиц с фиксированными номинальными доходами
- в) лица, которые живут за счет доходов от собственности
- г) все работники наемного труда

21. Коэффициент Джини в России за последние годы вырос с 0,22 до 0,37. Это означает, что:

- а) среднедушевые реальные доходы уменьшились
- б) среднедушевые реальные доходы увеличились
- в) дифференциация доходов в обществе снизилась
- г) дифференциация доходов в обществе возросла

22. Индекс стоимости жизни указывает на то:

- а) как изменились доходы людей
- б) как изменились потребности людей
- в) как изменилась доля потребления в бюджете потребителей
- г) как изменились расходы потребителей за купленные товары и услуги

23. Укажите основной фактор, определяющий дифференциацию заработной платы в современной России:

- а) развитие малого и среднего бизнеса
- б) финансовые спекуляции
- в) монопольное положение отдельных отраслей и предприятий

г) сдерживание уровня заработной платы в бюджетной сфере

24. Правительство рассчитывает увеличить доходы госбюджета от налогов на 10%. Одновременно предполагается увеличить зарплату бюджетным работникам на 40%, а пенсии - на 30%. В результате этого уровень реальных доходов данных групп населения:

- а) повысится
- б) понизится
- в) не изменится
- г) изменения установить невозможно

25. Какую основную цель преследует государственная политика доходов в странах с рыночной экономикой?

- а) покрытие дефицита бюджета
- б) противодействие инфляции
- в) повышение конкурентоспособности отечественных товаров
- г) смягчения неравенства в доходах разных групп населения

26. Кого из перечисленных ниже лиц можно отнести к участникам теневой экономики?

- а) банкира, "прокручивающего" средства, выделенные на выплату заработной платы бюджетным работникам
- б) государственного чиновника, получающего плату от частной фирмы за конфиденциальную информацию об инвестиционном конкурсе
- в) учителя математики, занимающегося репетиторством после уроков
- г) человека, занимающегося производством и продажей наркотиков

27. Индексация доходов:

- а) стимулирует повышение производительности труда
- б) способствует уменьшению разрыва в доходах лиц различных социальных категорий

- в) используется для поддержания уровня жизни лиц с фиксированными доходами в период инфляции
- г) ведет к усилению социальной дифференциации в обществе

28. Социальная политика - это политика, направленная:

- а) на повышение уровня жизни населения
- б) на улучшение экологической обстановки в стране
- в) на согласованную деятельность всех экономических субъектов по обеспечению благоприятных условий жизни населения
- г) на обеспечение благоприятных условий жизни той части населения, которая не занята в производстве

29. Под уровнем жизни понимают:

- а) степень обеспеченности населения экономическими благами
- б) количество потребительских благ, потребляемых человеком
- в) уровень номинальной заработной платы
- г) уровень реальной заработной платы

30. Функциональное распределение означает распределение национального продукта:

- а) между собственниками факторов производства
- б) между работающими и не работающими гражданами
- в) по степени трудового участия работников в производстве
- г) по правилам, установленным государством

31. Уравнительная концепция распределения национального дохода предполагает распределять его:

- а) поровну между всеми членами общества
- б) по принципу равное вознаграждение за одинаковый труд

- в) по принципу равное вознаграждение за равную собственность
- г) по потребностям для каждой категории граждан (дети, старики и т.п.)

32. Закон распределения Парето гласит, что:

- а) по мере роста абсолютной величины дохода уменьшается число лиц, получающих максимальный доход
- б) максимальный доход получают определенные категории граждан
- в) максимальную величину дохода установить невозможно
- г) число лиц с максимальными и минимальными доходами должно быть одинаковым

33. Социальная защита - это меры государства, обеспечивающие равные возможности для получения определенных общественных благ:

- а) всеми гражданами страны
- б) только не работающими
- в) только детьми
- г) все предыдущие ответы верные
- д) верны ответы "б" и "в"

34. Социальная помощь оказывается государством:

- а) всем гражданам страны
- б) только гражданам, не имеющим работы
- в) не трудоспособным гражданам
- г) верны все предыдущие ответы
- д) верны ответы "б" и "в"

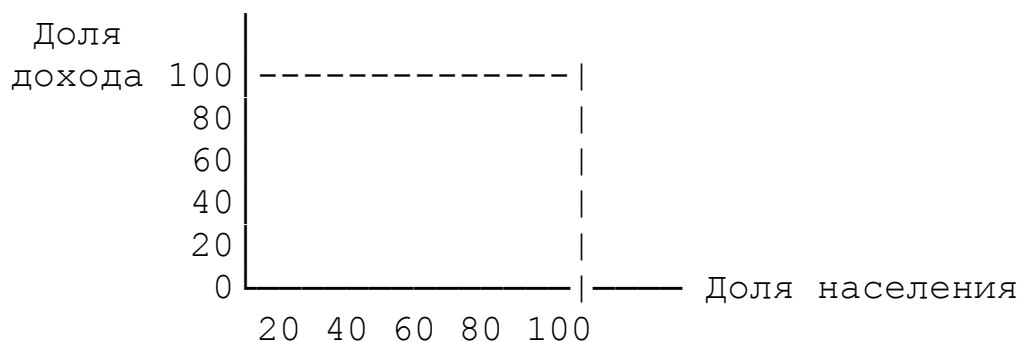
35. Если в стране за текущий год реальная заработная плата увеличилась на 12% при уровне инфляции 3%, то номинальная оплата труда:

- а) повысилась на 4%
- б) повысилась на 15%
- в) повысилась на 12%
- г) снизилась на 3%

36. Номинальной заработной платой является:

- а) сумма денег, полученная работником
- б) сумма премии, начисленная работнику
- в) сумма подоходного налога, уплаченная работником
- г) количество товаров и услуг, которые можно купить на деньги, полученные от продажи рабочей силы с учётом их покупательной способности

37. На рисунке показана кривая Лоренца. Если правительство вводит прогрессивное налогообложение на доходы физических лиц, то кривая Лоренца сдвигается:



- а) влево, уменьшая неравенство в обществе
- б) влево, увеличивая неравенство в обществе
- в) вправо, уменьшая неравенство в обществе
- г) вправо, увеличивая неравенство в обществе

**Решение задач для развития навыков владения
экономическими расчётами**

Задача №1. Как изменится величина реального дохода, если:

- 1) номинальный доход увеличится на 10%, а уровень цен повысится на 7%;
- 2) номинальный доход равен 30 тыс. руб., а рост цен составил 106%.

Ответы: 1) прирост 2,8%; 2) снижение на 1,7 тыс. руб.

Задача №2. В таблице приведены базисные индексы цен и номинальная заработная плата за 4 года. Рассчитайте и занесите в таблицу следующие показатели:

- 1) уровень инфляции для каждого года;
- 2) абсолютную величину реальной заработной платы;
- 3) используя правило "величины 70" определите количество лет, за которое произойдет удвоение цен для каждого года.

Годы	Индекс цен	Зарплата номинальная, руб.	Уровень инфляции, %	Зарплата реальная, руб.	Количество лет на удвоение цен
1	1,00	25000			
2	1,12	25000			
3	1,23	25000			
4	1,29	25000			

Задача №3. В период высокой инфляции в России с 1990 по 1996 гг. среднемесячная номинальная зарплата выросла с 225 руб. до 715200 руб. Цены на потребительские товары за этот период выросли в среднем в 8700 раз. Определите:

- 1) уровень реальной заработной платы в 1996 г.;
- 2) индекс изменения реальной заработной платы за этот период.

Ответы: 1) 82,2 руб.; 2) 0,365.

Задача №4. В России с 1995 по 2005 гг. коэффициент дифференциации доходов (децильный коэффициент) увеличился с 13,5 до 15,2. Коэффициент концентрации доходов (коэффициент Джини) увеличился с 0,387 до 0,409. Рассчитайте:

- 1) как изменилась степень неравномерности распределения доходов?
- 2) как изменилась степень концентрации доходов?

Ответы: 1) увеличилась на 12,6%; 2) увеличилась на 5,7%.

Задача №5. Распределение общего объёма денежных доходов населения в России с 1995 по 2005 гг. по квинтильным (20%-ным группам населения) показано в таблице в процентах:

Группы населения	1995 г.	2005 г.
Первая (с наименьшим доходом)	6,1	46,3
Пятая (с наибольшим доходом)	5,5	46,4

Рассчитайте, как изменился коэффициент дифференциации доходов?

Ответ: увеличился на 10,5%.

Задача №6. Определите изменение реальных доходов, если при темпе инфляции 50% в месяц номинальные доходы выросли за два месяца в 2 раза.

Ответ: реальные доходы снизились на 11%.

Задача №7. Определите изменение реальных доходов за квартал, в течение которого цены выросли на 8%, а номинальные доходы росли в первом месяце на 5%, во втором - на 7%, в третьем - на 4%.

Ответ: реальные доходы выросли на 8%.

Ответы на тестовые вопросы темы 14

1-а,б,в; 2-а,в; 3-а,б,д; 4-б,г; 5-б; 6-а; 7-в; 8-в; 9-а; 10-в; 11-в; 12-б; 13-в; 14-а; 15-б; 16-в; 17-а; 18-а; 19-б; 20-б; 21-г; 22-г; 23-в; 24-г; 25-г; 26-в; 27-в; 28-в; 29-а; 30-а; 31-б; 32-а; 33-а; 34-д; 35-б; 36-а; 37-а.

Тема 15. МЕЖДУНАРОДНЫЕ АСПЕКТЫ ЭКОНОМИЧЕСКОГО РАЗВИТИЯ

Учебные цели темы

1. Рассмотреть структуру и факторы развития мировой экономики.
2. Понять содержание международного разделения труда и формы международных экономических объединений и сотрудничества.
3. Усвоить теории международной торговли, внешнеторговые операции и формы торговой политики.
4. Уяснить содержание международных валютных отношений и платёжного баланса страны.

Основные термины, содержание которых необходимо знать, для реализации учебных целей

15.1. Мировое хозяйство, его структура, тенденции и факторы развития

1. Понятие мирового хозяйства
2. Закрытая и открытая экономика
3. Критерии разделения стран на развитые и развивающиеся
4. Паритет покупательной способности национальных валют
5. Тенденции развития мировой экономики за два прошлых века

6. Факторы, формирующие современные тенденции развития мирового хозяйства

15.2. Международное разделение труда и основные формы международных экономических отношений

1. Понятие международного разделения труда
2. Теории международной торговли:
 - а) меркантилизм
 - б) абсолютных преимуществ

- в) относительных преимуществ
- г) соотношения факторов производства и парадокс Леонтьева
- д) теорема Рыбчинского и "голландская болезнь"

3. Формы международных экономических объединений:

- а) льготные торговые соглашения и зоны свободной торговли;
- б) таможенный союз;
- в) общий рынок;
- г) экономический и валютный союз;
- д) политический союз

4. Формы международного экономического сотрудничества

15.3. Международная торговля

1. Операции внешней торговли
2. Внешнеторговый оборот
3. Внешнеторговое сальдо
4. Экспортная квота
 - а) таможенный тариф
 - б) таможенная пошлина
5. Мультипликатор экспорта
6. Предельная склонность к импорту
7. Внешнеторговый мультипликатор
8. Протекционизм
9. Таможенные барьеры:
10. Нетарифные ограничения
11. Политика свободной торговли (фритредерство)
12. Регулирование внешней торговли (национальное и международное)

15.4. Международные валютные отношения

1. Национальная валютная система
2. Мировая валютная система
3. Валюта
4. Виды валют
5. Валютный курс и режимы (системы) его установления
6. Котировка валют и её виды
7. Валютный рынок и его операции:
 - а) наличные (спот);
 - б) срочные (форвард);
 - в) валютный арбитраж
8. Мировые валютные организации
9. Платёжный баланс страны и его структура

Тесты для самоконтроля умений анализа усвоенных знаний

1. Счёт текущих операций, как составная часть платёжного баланса страны, включает: - (4 варианта правильные)

- а) товарный экспорт
- б) чистые доходы от инвестиций
- в) транспортные услуги иностранным партнерам
- г) изменения в активах страны за рубежом
- д) односторонние трансфертные платежи

2. Формами международных экономических отношений являются: - (4 варианта правильные)

- а) международная торговля
- б) международная трудовая миграция
- в) вывоз капитала и международный кредит
- г) таможенный союз

- д) зоны свободной торговли
- е) международные валютные отношения.

3. Если страна повысит пошлины на импортируемую обувь, то от этого получат дополнительные доходы: - (2 варианта правильные)

- а) отечественные производители обуви
- б) иностранные производители обуви
- в) иностранные экспортеры
- г) государственный бюджет страны
- д) потребители данной страны

4. Политика протекционизма с использованием высоких таможенных тарифов на импорт: - (2 варианта правильные)

- а) может увеличить уровень занятости в стране в краткосрочном периоде
- б) способствует защите "молодых" отраслей от иностранной конкуренции
- в) обеспечивает защиту отечественных производителей от демпинговых цен
- г) способствует развитию конкуренции в национальной экономике
- д) выгодна для отечественных потребителей иностранных товаров

5. Рассматривая последствия импорта для страны с открытой экономикой, можно утверждать, что: - (3 варианта правильные)

- а) рост импорта может привести к увеличению совокупного спроса в стране-импортере
- б) рост импорта может сопровождаться ростом внутренних цен, являясь тем самым одной из причин инфляции
- в) увеличение объема импорта может сокращать дефицит внешнеторгового баланса
- г) ограничение объема импорта ведет к сохранению в стране неэффективных производств и отраслей

д) ограничение объема импорта ведет к оживлению конкуренции в стране

6. В результате снижения импортной пошлины на отдельный товар:- (3 варианта правильные)

- а) внутреннее потребление товара может возрасти
- б) продажи местных производителей этого товара могут сократиться
- в) продажи иностранных экспортеров вырастут
- г) доходы государственного бюджета увеличатся
- д) дефицит внешнеторгового баланса может сократиться

7. Что выражает оборот внешней торговли?

- а) объем экспорта
- б) объем импорта
- в) сумму экспорта и импорта
- г) разность между суммой экспорта и импорта

8. Каково содержание политики протекционизма?

- а) стимулирование свободного перемещения товаров на внутреннем рынке страны
- б) ограждение внутреннего рынка от притока иностранных товаров
- в) поддержка иностранных инвесторов и продавцов
- г) политика интеграции с другими государствами в области производства и обмена товарами

9. Что понимается под принципом свободной торговли?

- а) свободное ценообразование на любые виды товаров и услуг
- б) свободный перелив капитала в рамках мирового рынка
- в) беспрепятственное развитие внешнеэкономической деятельности и свободный доступ иностранных товаров на национальные рынки
- г) ценовые ограничения во внешней торговле

10. Различие между импортной пошлиной и квотой состоит в том, что только пошлина:

- а) приводит к изменению цен
- б) приводит к сокращению международной торговли
- в) способствует снижению жизненного уровня в стране
- г) приносит доходы в госбюджет.

11. Если в стране с открытой экономикой увеличиваются подоходные налоги, то в этой стране:

- а) растет экспорт в) растет потребление
- б) растет импорт г) увеличивается обменный курс национальной валюты

12. Если цены на импортные товары выросли, то наиболее вероятно, что это вызвано:

- а) сокращением совокупного предложения в) ростом совокупного спроса
- б) ростом совокупного предложения г) падением совокупного спроса

13. Как может повлиять на физический объем экспорта и импорта заметное снижение цены национальной валюты?

- а) экспорт и импорт вырастут в) экспорт вырастет, а импорт снизится
- б) экспорт и импорт снизятся г) экспорт снизится, а импорт вырастет

14. Когда международная ценность национальной валюты растет, тогда:

- а) наблюдается тенденция к увеличению экспорта
- б) наблюдается тенденция к сокращению импорта
- в) наблюдается тенденция к сокращению чистого экспорта
- г) не происходит изменений в объемах экспорта и импорта

15. Составная часть платежного баланса страны - счет текущих платежей - не включает:

- а) товарный экспорт
- б) чистые доходы от инвестиций
- в) транспортные услуги иностранным партнерам
- г) изменения в активах страны за рубежом
- д) односторонние трансфертные платежи

16. Когда страна девальвировала свою валюту, то это означает, что:

- а) страна отказалась от золотого стандарта
- б) правительство повысило цены, по которым оно будет покупать иностранную валюту
- в) в стране отмечается дефицит торгового баланса
- г) в стране растет дефицит государственного бюджета

17. Как может повлиять на физический объем экспорта и импорта США заметное снижение цены доллара в иностранных валютах?

- а) экспорт и импорт вырастут
- б) экспорт и импорт снизится
- в) экспорт снизится, а импорт вырастет
- г) экспорт вырастет, а импорт снизится
- д) существенно не повлияет ни на экспорт, ни на импорт

18. Предельная склонность к импорту равна:

- а) отношению импорта к национальному доходу
- б) отношению прироста импорта к приросту экспорта
- в) отношению прироста импорта к приросту национального дохода
- г) отношению прироста национального дохода к приросту импорта

19. Мультипликатор внешней торговли, где $M_{ВТ}$ - мультипликатор внешней торговли, $ПСС$ - предельная склонность к сбережению, $ПСП$ - предельная склонность к потреблению, $ПСИ$ - предельная склонность к импорту определяется по формуле:

а) $M_{ВТ} = 1/ПСС$

в) $M_{ВТ} = 1/(ПСС+ПСИ)$

б) $M_{ВТ} = 1/ПСП$

г) $M_{ВТ} = 1 / (ПСП-ПСС)$

20. Если страна повысит пошлины на импортируемую обувь, то от этого выиграют:

а) потребители данной страны **в) отечественные производители обуви**

б) иностранные экспортеры **г) иностранные производители обуви**

21. Когда страны торгуют между собой теми товарами, производство которых налажено у них наиболее эффективно, то они получают прибыль за счет:

а) абсолютного преимущества **в) противоречивого преимущества**

б) относительного преимущества **г) статического преимущества**

22. Торговый баланс страны активен, если:

а) стоимость экспорта превышает стоимость импорта

б) страна вкладывает в экономику других стран больше средств, чем другие страны в ее экономику

в) мировой запас золота сосредоточен в данной стране

г) общая стоимость экспорта и импорта увеличивается

23. Дефицит торгового баланса страны существует, если:

а) государственные расходы превышают налоговые поступления

б) страна больше вкладывает капитала за рубежом, чем получает оттуда

- в) страна покупает за рубежом товары большей стоимости, чем туда продает
- г) страна продает за рубеж товары большей стоимости, чем ввозит оттуда

24. Принцип сравнительных преимуществ был впервые сформулирован:

- а) А.Смитом
- б) Д.Рикардо
- в) А.Маршаллом
- г) В.Леонтьевым

25. Если страна имеет абсолютное преимущество в производстве некоторого товара, то она:

- а) производит его в больших количествах
- б) производит его с меньшими издержками, чем другие страны
- в) имеет сравнительное преимущество в его производстве
- г) производить его как можно меньше, чтобы не утратить свои конкурентные преимущества

26. Если страна имеет сравнительное преимущество в производстве некоторого товара, то она:

- а) производит его в больших количествах, чем другие страны
- б) производит его в меньших количествах, чем другие страны
- в) производство данного товара обходится ей дешевле, чем производство других товаров
- г) производство данного товара в стране стоит дешевле, чем в других странах

27. Введение экспортной пошлины на определенный товар приводит:

- а) к увеличению потребления данного товара внутри страны
- б) к повышению внутренней цены до уровня выше мирового

- в) к увеличению чистого экспорта
- г) к росту производства данного товара

28. Что из перечисленного ниже способствует повышению обменного курса национальной валюты (при прочих равных условиях)?

- а) снижение процентных ставок в данной стране
- б) повышение процентных ставок в стране
- в) повышение в данной стране уровня цен
- г) повышение в данной стране уровня производительности труда

29. Определите, как может повлиять на физический объем экспорта и импорта России повышение курса рубля?

- а) экспорт и импорт вырастут
- б) экспорт и импорт сократятся
- в) экспорт возрастет, а импорт сократится
- г) экспорт снизится, а импорт возрастет
- д) не произойдет никаких изменений ни в экспорте, ни в импорте

30. Абсолютное преимущество - это:

- а) способность производить товары или услуги с меньшими альтернативными издержками
- б) способность производить товары или услуги с меньшими затратами на единицу продукции
- в) способность одной страны производить больше другой
- г) способность страны увеличить объем производства данного товара

31. Принцип сравнительных преимуществ требует, чтобы конкретный товар производился той страной, которая:

- а) имеет наибольшие альтернативные издержки, связанные с его производством и реализацией
- б) располагает более совершенными технологиями его производства
- в) располагает более квалифицированными кадрами
- г) имеет меньшие альтернативные издержки, связанные с его изготовлением, в сравнении с другими товарами

32. Импортная пошлина (тариф) - это:

- а) налог, устанавливаемый на импортируемый товар
- б) количественный лимит на ввоз товара из других стран
- в) отношение экспортных цен к импортным ценам
- г) инструмент торговой политики, с помощью которого правительство может стимулировать производство экспортируемых товаров

33. Индекс условий внешней торговли - это отношение:

- а) индекса экспортных цен к индексу импортных цен
- б) отношение индекса импортных цен к индексу экспортных цен
- в) отношение индекса внутренних цен к индексу импортных цен
- г) отношение индекса внутренних цен к индексу экспортных цен

34. Импортная квота - это:

- а) налог, устанавливаемый на импортируемый товар
- б) количественный лимит на ввоз товара из других стран
- в) отношение импортных цен к экспортным
- г) доля дохода от внешней торговли в государственном бюджете

35. Укажите, кто реально оплачивает надбавку к цене импортного товара, на который вводится таможенная пошлина:

- а) изготовитель страны-экспортера
- г) правительство страны-импортера

- б) предприятие-импортер
- д) розничная торговля
- в) правительство страны-экспортера
- е) потребитель страны-импортера

36. После девальвации национальной валюты цены экспорта и импорта изменяются при прочих равных условиях следующим образом:

- а) на импорт повысятся, а на экспорт снизятся
- б) повысятся как на экспорт, так и на импорт
- в) снизятся и на экспорт, и на импорт
- г) на экспорт вырастут, а на импорт снизятся

37. В результате ревальвации национальной валюты цены экспорта и импорта изменятся при прочих равных условиях следующим образом:

- а) на импорт повысятся, а на экспорт снизятся
- б) повысятся как на экспорт, так и на импорт
- в) снизятся и на экспорт, и на импорт
- г) на экспорт вырастут, а на импорт снизятся

38. Из мер, принимаемых государством, целям политики протекционизма соответствует:

- а) установление квот на ряд ввозимых товаров
- в) отмена лицензирования импорта
- б) отмена таможенного контроля
- г) снижение таможенных пошлин

39. Высшей формой международной экономической интеграции является:

- а) экономический и валютный союз
- в) общий рынок
- б) таможенный союз
- г) зона свободной торговли

40. Российский рубль - это валюта:

- а) свободно конвертируемая
- б) замкнутая
- в) частично конвертируемая
- г) резервная

41. Если чистый экспорт увеличится на 10 млрд.руб., а национальный доход снизится на 20 млрд.руб., то объем ВВП:

- а) вырастет на 30 млрд. руб.
- б) снизится на 30 млрд. руб.
- в) снизится на 10 млрд. руб.
- г) вырастет на 10 млрд. руб.

42. Сторонники теории свободной торговли утверждают, что отмена таможенной пошлины на импортный товар приведет к:

- а) увеличению занятости в стране
- б) снижению внутренней цены на данный товар
- в) снижению потребления данного товара внутри страны
- г) увеличению производства данного товара внутри страны

43. Экспортная квота - это:

- а) отношение объема экспорта к ВВП
- б) отношение объема экспорта к импорту
- в) отношение цен экспорта к ценам импорта
- г) отношение экспортных цен к внутренним

44. Внешнеторговое сальдо - это:

- а) сумма товарной стоимости экспорта и импорта
- б) разность между суммой товарного экспорта и импорта
- в) разность между экспортом товаров и капитала
- г) сумма экспорта товаров и капитала

45. Наименее вероятным источником инвестиций в экономически отсталых странах являются:

- а) собственные ресурсы
- б) иностранные государственные субсидии
- в) иностранный частный капитал
- г) помощь международных организаций

46. Для экономики отсталых стран характерным является:

- а) быстрый рост населения
- б) низкая производительность ресурсов
- в) недостаточное инвестирование
- г) все перечисленное выше

47. Для того, чтобы купить в банке 1 доллар, надо заплатить 25 рублей. В данном случае обмен осуществляется на основе:

- а) паритета покупательной способности
- б) номинального обменного курса
- в) предельной склонности к импорту
- г) реального обменного курса

48. Предположим, что потребительская корзина англичанина стоит 300 фунтов стерлингов, а россиянина - 24000 рублей. Номинальный обменный курс рубля - 0,03 фунта стерлингов за 1 рубль. Реальный обменный курс составит (рублей за 1 фунт стерлингов):

- а) 2,6
- б) 0,38
- в) 0,8
- г) 2,4

49. Золотодевизная система прекратила своё существование:

- а) после мирового экономического кризиса 1929-1933 гг.
- б) в 70-е годы XX столетия
- в) после второй мировой войны
- г) в конце XIX века

50. Определите паритет покупательной способности российского рубля и американского доллара на основе условной потребительской корзины из двух товаров:

	Цена товара		Количество товара	
	А	Б	А	Б
Россия	5	8	16	15
США	4	4	1	5

а) 8,3 б) 10,5 в) 14 г) 22

51. Предположим, что потребительская корзина американца стоит 200 долл., а россиянина - 8000 руб. Номинальный обменный курс составляет 25 рублей за доллар. Реальный обменный курс составит:

- а) 0,1 б) 1,0 в) 0,625 г) 1,06

52. Если чистый экспорт сократится на 10 млрд. ден. ед., а ВНД увеличится на 20 млрд. ден. ед., то объём ВВП:

- а) вырастет на 30 млрд. ден. ед. в) снизится на 10 млрд. ден. ед.
 б) снизится на 30 млрд. ден. ед. г) вырастет на 10 млрд. ден. ед.

53. Сторонники теории свободной торговли утверждают, что отмена таможенной пошлины на импортные товары приведёт к:

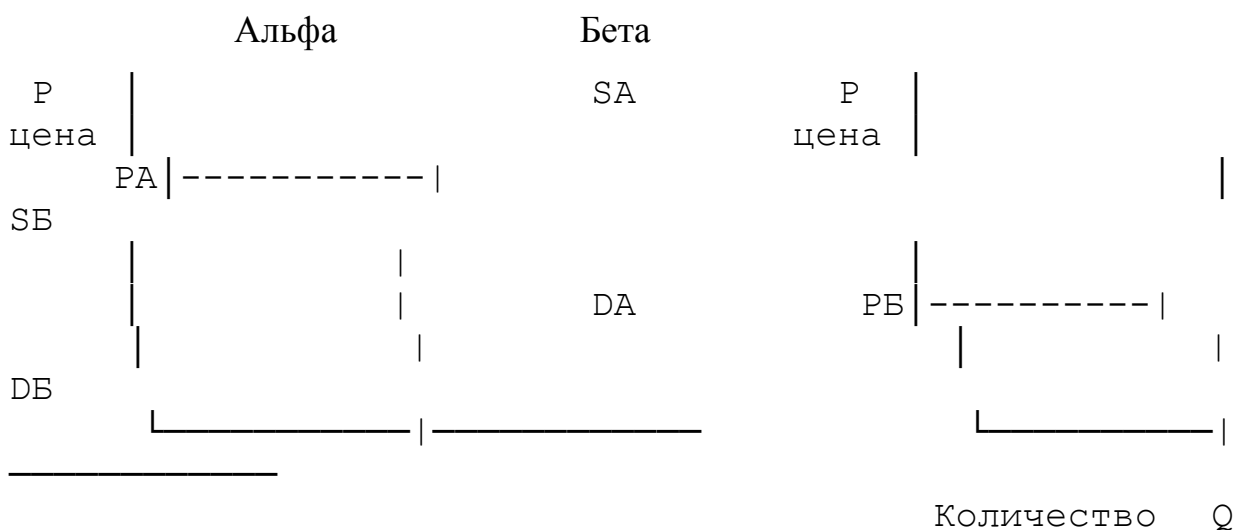
- а) увеличению занятости
 б) снижению внутренней цены на товар
 в) снижению потребления данного товара
 г) увеличению производства данного товара внутри страны

54. В стране А функции спроса и предложения на конкретный товар имеют вид: $QAD = 6 - 0,2PA$; $QAS = 1 + 0,2PA$.

В стране В соответствующие функции на тот же товар следующие:
 $Q_{BD} = 3 - 0,1P_B$; $Q_{BS} = -1 + 0,4P_B$. Определите мировую равновесную цену при условии, что транспортные расходы равны нулю:

- а) 8,0 б) 10,0 в) 12,5 г) 15

55. На рисунке приведены кривые спроса (D) на зерно и предложения (S) зерна в двух странах Альфа и Бета. Цены выражены в единой валюте, а транспортные расходы на перевозку зерна равны нулю.



Количество Q

Если между этими странами отменят торговые ограничения, то цена будет:

- а) ниже P_A и страна Бета будет экспортёром зерна
 б) ниже P_B и страна Бета будет экспортёром зерна
 в) выше P_A и страна Альфа будет импортёром зерна
 г) выше P_B и страна Альфа будет экспортёром зерна

**Решение задач для развития навыков владения
 экономическими расчётами**

Задача №1. Допустим, что используя все свои ресурсы страна "А" может производить или 30 тонн пшеницы, или 30 тонн сахара; а страна "Б" - или 10 тонн пшеницы, или 20 тонн сахара. Для удовлетворения собственных потребностей стране "А" необходимо 18 тонн пшеницы и 12 тонн саха-

ра, а стране "Б" - 8 тонн пшеницы и 4 тонны сахара, то есть всего для собственных потребностей 26 тонн пшеницы и 16 тонн сахара.

Используя принцип специализации и сравнительных преимуществ, рассчитайте возможный объём увеличения производства двух товаров, и как с использованием внешней торговли увеличится объём потребления этих товаров в каждой стране.

Постройте графики производственных и торговых возможностей для каждой страны.

Ответы: производство пшеницы увеличится на 4 тонны; производство сахара увеличится на 4 тонны; потребление пшеницы увеличится на 2 тонны и в одной, и в другой стране; потребление кофе увеличится в стране "А" на 3 тонны, а в стране "Б" - на 1 тонну.

Задача №2. Допустим, что для производства 25 метров ткани в стране "А" требуется 100 часов труда, а в стране "Б" - 90; для производства 50 литров вина в стране "А" требуется 120 часов труда, а в стране "Б" - 80. Определите сравнительные издержки по тканям и вину в каждой стране и установите как будут формироваться потоки экспорта и импорта между ними.

Ответы: сравнительные издержки по ткани: страна "А" - 1,67; страна "Б" - 2,25; сравнительные издержки по вину: страна "А" - 0,6; страна "Б" - 0,44.

Задача №3. В истекшем году валовой национальный продукт страны (ВНП) был равен 1000 ден. ед. Планируется, что в текущем году экономика страны будет характеризоваться следующими параметрами:

- предельная склонность к потреблению = 0,75;
- предельная склонность к импорту = 0,1;
- прирост экспорта = 20 ден. ед.;
- прирост импорта = 10 ден. ед.

Используя мультипликатор экспорта и мультипликатор внешней торговли, определите:

- 1) как изменится величина ВВП за счёт экспорта?
- 2) как изменится величина ВВП с учётом и экспорта, и импорта?

Ответы: 1) ВВП увеличится на 8%

2) ВВП увеличится на 5,72%.

Задача №4. Имеются данные о спросе и предложении на швейцарские франки:

Цена франка, в долл.	Объем спроса на франки, млн. франков	Объем предложения франков, млн. франков
0,80	300	400
0,70	320	370
0,60	340	340
0,50	360	310
0,406	380	280

Определите:

- 1) равновесный валютный курс доллара
- 2) равновесный валютный курс швейцарского франка
- 3) какое количество долларов будет куплено на валютном рынке?
- 4) какое количество швейцарских франков будет куплено на валютном рынке?

Ответы: 1) 1,67 франка за долл.; 2) 60 центов за франк; 3) 204 млн. долл.; 4) 340 млн. франков.

Задача №5. Допустим, что в какой-то момент курсы трёх валют установились следующим образом:

- 1 доллар США = 0,9 швейцарских франков;
- 1 швейцарский франк = 0,8 английского фунта стерлингов;
- 1 фунт стерлингов = 1,6 доллара.

Имея 100 долл., определите, какой доход можно получить, осуществляя валютные арбитражные операции?

Ответ: доход 15 долл.

Ответы на тестовые вопросы темы 15

1-а,б,в,д; 2-а,б,в,е; 3-а,г; 4-а,б; 5-а,б,г; 6-а,б,в; 7-в; 8-б; 9-в; 10-г; 11-а; 12-а; 13-в; 14-в; 15-г; 16-б; 17-г; 18-в; 19-в; 20-в; 21-б; 22-а; 23-в; 24-б; 25-б; 26-в; 27-а; 28-г; 29-г; 30-б; 31-г; 32-а; 33-а; 34-б; 35-е; 36-а; 37-г; 38-а; 39-в; 40-в; 41-в; 42-б; 43-а; 44-б; 45-а; 46-г; 47-б; 48-г; 49-б; 50-а; 51-в; 52-г; 53-г; 54-б; 55-г.

Тема 16. ЭКОНОМИЧЕСКИЙ РОСТ И ЦИКЛИЧНОСТЬ РАЗВИТИЯ РЫНОЧНОЙ ЭКОНОМИКИ

Учебные цели темы

1. Раскрыть понятие экономического роста, установить различия между экстенсивным и интенсивным ростом, определить факторы экономического роста.

2. Дать характеристику цикличности развития и содержания основных фаз промышленного цикла.

3. Выявить причины экономических кризисов и рассмотреть типы экономических циклов и кризисов.

4. Ознакомиться с теоретическими моделями равновесного экономического роста.

**Основные термины, содержание которых необходимо знать,
для реализации учебных целей**

16.1. Экономический рост: понятие, измерение, факторы, типы и границы

- | | |
|------------------------|----------------------------------------------------------|
| 1. Экономический рост: | 7. Факторы экономического роста: |
| а) потенциальный | а) со стороны спроса (распределения); |
| б) действительный | б) со стороны предложения (производства) |
| 2. Темпы роста | 8. Аргументы сторонников ускорения экономичес-кого роста |
| 3. Темпы прироста | |
| 4. Экстенсивный рост | 9. Аргументы противников ускорения экономичес-кого роста |
| 6. Интенсивный рост | |

16.2. Цикличность развития рыночной экономики

1. Экономический цикл и тренд
2. Понятие цикличности
3. Фазы промышленного цикла и их содержание

16.3. Причины экономических кризисов и типы экономических циклов

1. Возможные причины экономических кризисов:

- а) экзогенные или экстернальные
- б) эндогенные или интернальные

2. Механизм распространения рыночных колебаний (мультипликатор-акселератор)

3. Золотое правило накопления

4. Материальная основа цикличности

5. Типы экономических циклов:

- а) краткосрочные (Д.Китчина)
- б) среднесрочные (К.Жугляра)
- в) строительные (С.Кузнеца)
- г) длинные циклы Н.Д.Кондратьева

6. Структурные и системные кризисы

16.4. Модели равновесного экономического роста

1. Многофакторные модели
2. Однофакторные модели
3. Модель "затраты-выпуск" В.Леонтьева

Тесты для самоконтроля умений анализа усвоенных знаний

1. Какие из перечисленных ниже параметров следует отнести к фазе спада (кризиса)? – (4 варианта правильные)

- | | |
|-------------------------------------------|------------------------------------|
| а) резкое сокращение объемов производства | г) падение цен |
| б) рост безработицы | д) падение нормы ссудного процента |
| в) сокращение инвестиций | е) рост курса ценных бумаг |

2. Какие из перечисленных ниже параметров следует отнести к фазе оживления? – (3 варианта правильные)

- | | |
|------------------------------|-------------------------------------------|
| а) сокращение безработицы | г) падение нормы ссудного процента |
| б) снижение заработной платы | д) массовое обновление основного капитала |
| в) рост цен | е) снижение курса ценных бумаг |

3. Какие из перечисленных ниже параметров следует отнести к фазе депрессии? – (4 варианта правильные)

- | | |
|--------------------------------|--------------------------------------|
| а) затоваривание | г) рост заработной платы |
| б) сокращение товарных запасов | д) прекращение падения производства |
| в) низкая заработная плата | е) снижение ставки ссудного процента |

4. Что из ниже перечисленного отражает позицию защитников ускоренного экономического роста? Экономический рост: - (3 варианта правильные)

- а) приводит к повышению уровня жизни
- б) высвобождает людям свободное время, необходимое для саморазвития и совершенствования
- в) является прямой причиной загрязнения окружающей среды
- г) создает предпосылки для преодоления неравенства в доходах разных групп населения

5. Что из ниже перечисленного отражает позицию противников ускоренного экономического роста? Экономический рост: - (3 варианта правильные)

- а) является прямой причиной загрязнения окружающей среды
- б) создает для многих людей жизненные проблемы, связанные с быстрым старением знаний, квалификации, профессионального опыта и т.п.
- в) обесценивает качество трудовой жизни, превращая людей в придатки машин
- г) решает проблему неравенства в распределении доходов между разными группами населения

6. В модели акселератора прирост инвестиций текущего периода зависит:

- а) от относительного изменения национального дохода
- б) от объема национального дохода в текущем периоде
- в) от величины национального дохода в предыдущем периоде
- г) от прироста национального дохода в предыдущем периоде

7. Массовой безработицей характеризуется следующая фаза экономического цикла:

- а) кризис
- б) депрессия
- в) оживление
- г) подъем

8. Сокращение товарных запасов происходит в фазе экономического цикла:

- а) кризис
- б) депрессия
- в) оживление
- г) подъем

9. Быстрый рост процентных ставок происходит в фазе экономического цикла:

- а) кризис
- б) депрессия
- в) оживление
- г) подъем

10. Массовое обновление основного капитала происходит в фазе экономического цикла:

- а) кризис
- б) депрессия
- в) оживление
- г) подъем

11. Кризис, охвативший экономику России в конце XX и начале XXI является:

- а) циклическим
- б) структурным
- в) трансформационным
- г) сырьевым

12. Наиболее существенный фактор экономического роста в развитых странах мира - это:

- а) увеличение численности рабочих
- б) технологические совершенствования производства
- в) увеличение объема применяемого капитала
- г) вовлечение в производство новых природных ресурсов

13. Интенсивный тип экономического роста НЕ характеризует:

- а) применение в производстве новых технологий
- б) повышение квалификации рабочих и служащих
- в) увеличение применяемых материальных ресурсов

г) использование новых машин и оборудования

14. В модели "совокупный спрос-совокупное предложение" (AD-AS) экономический рост, сопровождаемый снижением цен, может быть представлен как:

- а) сдвиг влево кривой AS
- б) сдвиг вправо кривой AD
- в) сдвиг влево кривой AD
- г) сдвиг вправо кривой AS

15. В модели "совокупный спрос-совокупное предложение" (AD-AS) экономический рост, сопровождаемый ростом цен, может быть представлен как:

- а) сдвиг влево кривой AS
- б) сдвиг вправо кривой AD
- в) сдвиг влево кривой AD
- г) сдвиг вправо кривой AS

16. В экономике, характеризующейся полной занятостью, высокие темпы экономического роста требуют:

- а) высокой нормы сбережений и низкой нормы инвестиций
- б) низкой нормы сбережений и высокой нормы инвестиций
- в) высокой нормы сбережений, и инвестиций
- г) снижения нормы сбережений и инвестиций

17. Экономический рост может быть проиллюстрирован:

- а) сдвигом влево кривой производственных возможностей
- б) сдвигом вправо кривой трансформации
- в) движением точки по кривой трансформации
- г) перемещением точки внутри кривой производственных возможностей

18. Экономический рост в современных условиях определяется прежде всего:

- а) масштабами производства
- в) уровнем сбережений в обществе

- б) увеличения количества работников в производстве
- в) уровень образования и квалификации работников
- г) уровень организации производства

24. Исторически перемещение рабочей силы из сельского хозяйства в промышленность:

- а) порождает инфляционные явления
- б) приводит к росту средней производительности труда в обществе
- в) приводит к снижению средней производительности труда в обществе
- г) приводит к снижению жизненного уровня населения

25. При прочих равных условиях, если в экономике, характеризующейся полной занятостью, происходит значительное перемещение ресурсов в производство средств производства, то следует ожидать:

- а) увеличения объема текущего потребления
- б) снижения объема потребления в будущем
- в) снижения темпов роста ВВП
- г) роста производительности труда

26. Что называется промышленным (экономическим) циклом?

- а) движение промышленного капитала, рассматриваемое не как единичный акт, а как периодически повторяющийся процесс
- б) движение экономики от одного экономического кризиса к другому
- в) последовательное превращение капитала из одной формы в другую
- г) период времени, в течение которого предприниматель возвращает всю авансированную капитальную стоимость

27. Какова материальная основа периодичности среднесрочных экономических циклов?

- а) обострение противоречий между трудом и капиталом
- б) нарушение условий реализации произведенного ВВП
- в) массовое обновление элементов основного капитала
- г) несоответствие между объемом средств производства и предметов потребления

28. Численное значение какого из следующих показателей подает после наступления фазы подъема и растет после наступления фазы спада (кризис)?

- а) объем ВВП
- б) курсы ценных бумаг
- в) объем промышленного производства
- г) объем товарных запасов в промышленности

29. В период рецессии (спада производства или замедления темпов его роста) более всего сокращаются:

- а) расходы потребителей на покупку предметов потребления
- б) уровень заработной платы наемных работников
- в) величина предпринимательской прибыли
- г) государственные закупки товаров и услуг

30. Тенденция к падению валовых инвестиций проявляется в период, когда:

- а) повышаются темпы роста продаж
- б) уровень роста продаж не меняется
- в) темпы роста продаж падают
- г) все предыдущие ответы верны

31. Экономический цикл связан:

- а) с действием только внешних факторов относительно экономики
- б) с действием только внутренних экономических факторов
- в) с факторами, преимущественно влияющими на динамику совокупного спроса
- г) с факторами, преимущественно влияющими на динамику совокупного предложения

32. Самое сильное влияние на ход экономического цикла оказывает динамика:

- а) чистых инвестиций, направляемых на прирост товароматериальных запасов
- б) чистых инвестиций, направляемых на обновление производства
- в) потребительских расходов
- г) государственных расходов

33. Акселератор представляет собой отношение:

- а) прироста инвестиций текущего года к приросту ВВП прошлого года
- б) прироста ВВП текущего года к приросту инвестиций прошлого года
- в) ВВП текущего года к инвестициям текущего года
- г) инвестиций текущего года к ВВП текущего года

34. Количественная величина акселератора соответствует:

- а) капиталоемкости производства продукции

- б) материалоемкости производства продукции
- в) производительности потребляемых ресурсов
- г) чистой производительности труда

35. Золотое правило накопления, сформулированное американским экономистом Э.Фелпсом, с учетом темпов роста населения и технического прогресса, где MP_K - предельный продукт капитала, d - норма амортизации (выбытия) капитала, n - темп роста населения, g - темп роста технического прогресса, выражается формулой:

а) $MP_K = d + n + g$

в) $MP_K = (d + n) \times g$

б) $MP_K = d \times n \times g$

г) $MP_K = (d - n) / g$

36. Сдвиг линии производственных возможностей вправо, т.е. дальше от начала координат, позволяет заключить, что в стране:

- а) происходит экономический рост
- б) экономический рост происходит за счет вовлечения в производство дополнительных материальных ресурсов
- в) экономический рост происходит за счет лучшего использования имеющихся ресурсов
- г) экономический рост происходит за счет вовлечения в производство дополнительных работников

37. Производственная функция, показывающая зависимость объема выпуска (Q) от двух факторов производства (труда L и капитала K), имеет следующий вид:

а) $Q = f(L, K)$

в) $Q = f(L/K)$

б) $Q = f(L+K)$

г) $Q = (L, K)^n$

38. Когда в истории рыночной экономики произошел первый промышленный кризис:

а) в 1825 г.

б) в 1836 г.

в) в 1847 г.

г) в

1774 г.

39. В марксистской теории цикла в качестве основной причины циклических колебаний указывается:

а) недопотребление, т.е. незначительное расходование текущего дохода на потребление и значительное сбережение

б) основное противоречие капитализма - между общественным характером производства и частнокапиталистической формой присвоения

в) перенакопление, т.е. производство товаров производственного назначения в больших масштабах, чем производство потребительских товаров

г) изменение пропорции "запас-поток"

40. В процессе циклического развития уровень занятости изменяется в направлении:

а) обратному изменению реального объема производства

- б) соответствующему изменению номинального ВВП
- в) обратному изменению номинального ВВП
- г) соответствующему изменению реального объёма производства

41. Во время экономического подъёма происходит:

- а) снижение товарных запасов и налоговых поступлений в бюджет
- б) снижение товарных запасов фирм и увеличение налоговых поступлений в бюджет
- в) увеличение товарных запасов фирм и снижение налоговых поступлений в бюджет
- г) увеличение товарных запасов фирм и налоговых поступлений в бюджет

42. Верхним ограничителем колебаний экономического цикла является:

- а) величина инвестиций
- в) величина государственного долга
- б) потенциальный ВВП
- г) величина государственных расходов

43. Установите источники экстенсивного пути развития экономической системы:

- а) изобретения и научные разработки
- б) новые технологии
- в) повышение квалификации работников

- г) увеличение объёмов факторов производства
- д) современная техника

44. Установите источники интенсивного пути развития экономической системы:

- а) новые месторождения полезных ископаемых
- б) новые прогрессивные технологии
- в) освоение новых земель
- г) рост численности рабочей силы
- д) увеличение объёмов факторов производства

45. Экономический рост обеспечивает всё из перечисленного ниже, кроме:

- а) повышения уровня жизни
- б) увеличения средств борьбы с нищетой
- в) оздоровления окружающей среды
- г) повышения уровня образования и квалификации работников

46. Потенциальный объём ВВП определяется как:

- а) стоимость всех товаров и услуг, произведённых в экономике, начиная с какого-либо базового периода до настоящего времени
- б) стоимость товаров и услуг, которые могут быть произведены, если экономика функционирует в условиях полной занятости рабочей силы

в) стоимость товаров и услуг, которые могут быть произведены, если экономика функционирует при 100%-ной занятости трудоспособного населения

г) степень, в которой объём ВВП может возрасти, если уровень инвестиций будет максимальным

47. Каким образом связаны эффект мультипликатора и принцип акселератора?

а) и тот и другой объясняет, как происходит изменение уровня валовых инвестиций

б) эффект мультипликатора объясняет, как можно поддерживать экономику на уровне полной занятости, а принцип акселератора позволяет понять, почему возникает и сохраняется депрессивное состояние экономики, если принимаются меры, стимулирующие рост совокупных расходов

в) эффект мультипликатора показывает, как изменение уровня ВВП, особенно если он растёт, может привести к росту чистых инвестиций, а принцип акселератора объясняет, как изменение расходов (инвестиций), может привести к более значительным изменениям уровня ВВП

г) эффект мультипликатора показывает, как изменение расходов (инвестиций) может привести к ещё большему изменению уровня ВВП, а принцип акселератора объясняет, как изменение уровня ВВП, особенно его повышение, может привести к росту чистых инвестиций

48. Если отклонение реального ВВП от потенциального составляет 5%, а потенциальный объём выпуска равен 6000 млрд. руб., то страна недополучает продукции на (млрд. руб.):

- а) 30 б) 300 в) 270 г) 330

49. Предпосылками построения классической модели общего экономического равновесия являются:

- а) совершенная конкуренция на рынке факторов производства
- б) гибкость цен
- в) рациональное поведение субъектов рынка
- г) гибкие ставки заработной платы
- д) гибкие ставки процента
- е) всё перечисленное верно

50. Основными источниками колебаний в модели реального бизнес - цикла являются:

- а) технологический прогресс
- б) рост государственных закупок товаров и услуг
- в) изменение процентной ставки
- г) всё перечисленное верно

**Решение задач для развития навыков владения
экономическими расчётами**

Задача №1. На основании данных, приведенных в таблице, определите и полученные данные занесите в таблицу:

- 1) реальный объём ВВП в каждом году;

2) базисные темпы роста (ТРб) количества труда, производительности труда и ВВП.

Годы	Количество труда		Производительность труда		ВВП	
	Часы	ТРб, %	руб. за час	ТРб, %	руб.	ТРб, %
1.	1000	100	100	100		100
2.	1000		105			
3.	1100		105			
4.	1200		110			

По полученным результатам рассчитайте темп прироста ВВП в четвёртом году по сравнению с третьим годом и установите долю количества труда и долю производительности труда в общем приросте ВВП.

Ответы: прирост ВВП=14,3%; доля количества труда=9,1%; доля производительности труда=4,8%.

Задача №2. Реальный ВВП в стране в прошлом году составил 30 млрд. руб., а в текущем 31,2 млрд. руб. При этом население увеличилось со 100 до 102 тыс. чел. Определите, как изменился уровень жизни в стране?

Ответ: уровень жизни снизился на 1,96%.

Задача №3. Реальный ВВП в стране в прошлом году был равен 300 млрд. руб., а в текущем году составил 309 млрд. руб. Население при этом увеличилось на 4%. Определите тип экономического роста и установите, достаточен ли он был для роста уровня

жизни населения страны, считая что структура ВВП не изменилась.

Задача №4. Ведущие экономисты прогнозируют, что через год экономическая ситуация в стране будет характеризоваться следующими данными: потребительские расходы $(C)=10+0,7V$, где V - это объём ВВП); валовые инвестиции $(I)=50$ млрд. руб.; государственные расходы $(G)=100$ млрд. руб. Рассчитайте прогнозируемый на будущий год уровень ВВП.

Ответ: 533,3 млрд. руб.

Задача №5. Правительство дало специалистам задание дать прогноз динамики ВВП на следующий год. Специалисты считают, что потребительские расходы составят 70% ВВП, сумма инвестиций и государственных расходов достигнет 2 трлн. руб., а чистый экспорт будет равен нулю. Определите: 1) величину прогнозного ВВП будущего года; 2) по истечении года выяснилось, что прогнозные оценки были не точными: фактические потребительские расходы составили 0,75 ВВП; сумма инвестиций и государственных расходов равна 2,5 трлн. руб., а чистый экспорт равен (-0,5 трлн. руб.). Рассчитайте разницу между фактическим и прогнозным объёмами ВВП и установите на сколько точным (в %) оказался прогноз специалистов относительно фактического ВВП.

Ответы: 1) 6,67 трлн. руб.; 2) ошибка прогноза 16,6%.

Задача №6. Известно, что темпы прироста за год составили:

- национального дохода - 3,6%;
- капитала - 4%;
- числа работающих - 2%.

При этом доли труда и капитала в производстве национального дохода равны соответственно 0,8 и 0,2.

Определите темп прироста фактора, участвующего в производстве национального дохода, который называют "техническим прогрессом".

Ответ: 1,2%.

Задача №7. Доля потребления в валовом национальном доходе страны составляет 80%. Капиталоёмкость равна 5. Используя однофакторную модель экономического роста Е. Домара, определите темп прироста инвестиций, необходимый для сбалансированного роста экономики.

Ответ: 4%.

Задача №8. Предположим, что единственными составляющими совокупного спроса в стране являются потребление и инвестиции. Средняя склонность к потреблению равна 0,8, а отношение капитал / продукт = 2. В течение всего указанного периода времени экономика находится в условиях полной занятости. Заполните таблицу недостающими данными (млн. руб.).

Годы	ВВП	Сбережения	Инвестиции	Изменения в величине ВВП в условиях полной занятости
1	1000			

2				
3				
4				

Ответы на тестовые вопросы темы 16

1-а,б,в,г; 2-а,в,д; 3-а, г; 4-а,б,г; 5-а,б,в; 6-г; 7-а; 8-б; 9-а; 10-в; 11-в;
 12-б; 13-в; 14- г; 15- б; 16- в; 17- б; 18- г; 19- б; 20- б; 21-б; 22-б;
 23-б; 24-б; 25-г; 26-б; 27-в; 28-г; 29-в; 30-в; 31-в; 32-б; 33-б; 34-а;
 35-а; 36-а; 37-а; 38-а; 39-б; 40-г; 41-г; 42-б; 43-г; 44-б; 45-в; 46-б;
 47-г; 48-б; 49-е.

Тема 17. ПРОБЛЕМЫ СОЦИАЛЬНО-ЭКОНОМИЧЕСКОЙ ТРАНСФОРМАЦИИ В СТРАНАХ С ПЕРЕХОДНОЙ ЭКОНО- МИКОЙ

Учебные цели темы

1. Понять причины, вызывающие переход от одной экономической системы к другой.
2. Разобраться с возможными способами преобразования командной экономики в рыночную.
3. Уяснить набор и последовательность мер рыночных преобразований в различных концепциях реформирования командной экономики.

**Основные термины, содержание которых необходимо знать,
 для реализации учебных целей**

17.1. Концепции и основные направления системных реформ в переходной экономике

1. Градуализм
2. Шоковая терапия
3. Гетеродоксальный переход
4. Основные направления реформ:
 - а) либерализация хозяйственной жизни
 - б) институциональные меры
 - в) реструктуризация экономики
 - г) создание открытой экономики
 - д) реформы в социальной сфере
5. Закономерности перехода экономики в концепции "шоковой терапии"

17.2. Выбор концепции реформирования и система рыночных преобразований в России

1. Объективность выбора концепции "шоковой терапии"
2. Последовательность мер рыночных преобразований
3. Последствия рыночных реформ за период 1990-2010 гг.
4. Возможные направления дальнейшего совершенствования рыночных отношений

Тесты для самоконтроля умений анализа усвоенных знаний

1. Закономерностью переходного периода и структурной перестройки экономики НЕ является:

- а) финансовая стабилизация

- б) бюджетный кризис
- в) трансформационный спад экономики
- г) утрата государством функций единого распорядителя экономических ресурсов

2. Приватизация государственного предприятия, осуществленная через аукцион, новому владельцу предприятия:

- а) запрещает увольнять наемных работников
- б) запрещает перепрофилировать предприятие
- в) позволяет осуществлять любые действия вплоть до его ликвидации
- г) позволяет осуществлять лишь действия, предусмотренные общими условиями приватизации

3. Сторонники "шоковой терапии" перехода командной экономики к рыночной считают, что:

- а) неэффективное использование ресурсов является меньшей проблемой, чем спад производства
- б) необходим длительный переходный период
- в) неэффективное использование ресурсов является большей проблемой, чем спад производства
- г) безработица является большей проблемой, чем инфляция

4. Основным инструментом приватизации в России был(а):

- а) вексель
- в) акция

б) ваучер

г) облигация

5. Градуализм - это экономическая концепция:

а) возникновения, развития и укрепления рыночных правил экономического поведения

б) формирования самодостаточной экономической системы

в) считающая необходимым уменьшение государственного влияния на экономику, для достижения бездефицитного бюджета и либерализации цен

г) отводящая государству главную роль в формировании рынка и предполагающая проведение медленных и последовательных реформ

6. Роль государства в странах с переходной экономикой:

а) является пассивной

в) остается неизменной

б) возрастает

г) снижается

7. В переходный период от командной экономики к рыночной вновь создаётся:

а) рынок ценных бумаг

в) рынок труда

б) денежный рынок

г) товарный рынок

8. В антимонопольной политике России преимущественное развитие получило:

а) программирование экономики

б) формирование естественных монополий

- в) регулирование прав собственности и препятствование появлению новых монополий
- г) проведение анализа конкурентной среды

9. В какой стране наиболее полно была реализована концепция "шоковой терапии"?

- а) Россия
- б) Китай
- в) Вьетнам
- г) Белоруссия

10. Одной из основных причин криминализации реформируемой российской экономики явилось:

- а) преобразование отношений собственности
- б) активное использование рыночных методов в экономике
- в) несовершенство предпринимательских структур
- г) резкое снижение государством своей регулирующей роли в масштабах всей национальной экономики

11. Главным недостатком плановой системы хозяйства, приведшем её к гибели, является:

- а) высокий уровень социальной защиты населения
- б) перенесение основных экономических проблем людей на государство
- в) низкий уровень мотивации населения к высокопроизводительному труду
- г) гарантированное обеспечение занятости населения

12. Экономический рост в Китае за последние 20-30 лет

вызван:

- а)** использованием монетаристской концепции экономического развития
- б)** расширением системы государственного планирования
- в)** серьёзными институциональными преобразованиями
- г)** синтезом жёсткой системы государственного регулирования и рыночных методов функционирования экономики с преимущественной ориентацией на национальные потребности

13. Под структурными сдвигами в национальной экономике понимается всё перечисленное, кроме изменения:

- а)** соотношения между отраслями хозяйственной системы
- б)** отраслевой структуры национальной экономики
- в)** соотношения между административными и экономическими регуляторами
- г)** территориального размещения производительных сил общества

Ответы на тестовые вопросы темы 17

1-а; 2-в; 3-г; 4-б; 5-г; 6-г; 7-в; 8-г; 9-а; 10-а; 11-в; 12-г; 13-в.